

2022(令和4)年度 一般入試問題

※スカラシップ入試の問題はA日程1日目(2月1日)と同じ問題です。

長崎外国語大学

2022(令和4)年度

長崎外国語大学
一般入試・A日程
2月1日(火)

「英語」試験問題

受験上の注意

- 1 試験開始の合図があるまで、問題冊子は開かないこと。
- 2 解答はすべて解答用紙の指定されたところに記入すること。
- 3 問題冊子は全部で13ページあります。

問題は次のページから始まります。

1. 提示された資料を読み、設問に答えなさい。
次の資料（1 A）に基づいて、（1）から（2）の設問に答えなさい。

資料（1 A）

NEWARK, NEW JERSEY

Japanese Cultural Festival

EVENT NOTICE

The 13th annual Japanese Cultural Festival will be held in Conference Hall 1 on the 2nd floor of the downtown community center, opposite the Central Bank, next to the museum, on Saturday, July 6th and Sunday, July 7th from 10:00 am until 4:00 pm on both days. From 5:00 pm to 7:00 pm, there will be Japanese language lessons, but the tea ceremony class has been canceled.

Please note the event date has changed from July 5th and 6th due to maintenance work. The place has also moved from the 1st floor to the 2nd floor because more shops have joined this year, and more space is needed.

日本 JAPAN

-
- (1) When and where will the Japanese festival take place?
- (1) On the 2nd floor of the community center, on a Saturday and a Sunday in July
 - (2) On July 6th and 7th, opposite the museum, and next to the Central Bank
 - (3) In the downtown community center, on July 5th and 6th
 - (4) In Conference Hall 1 on the 1st floor, on a Friday and a Sunday in July
- (2) Why has the event date changed?
- (1) More space will be needed in the hall.
 - (2) There will be maintenance work.
 - (3) The tea ceremony class will be canceled.
 - (4) The event will be moved from the 1st to the 2nd floor.

次の資料（1 B）、（1 C）に基づいて、（3）から（5）の設問に答えなさい。

資料（1 B）

=====

WQNR Weather Report
by Joan Thomason
10:47 a.m. Monday, June 7, 2021

High temperatures are expected in the entire state of New Jersey for the next few days, highs reaching upper 80s to upper 90s with high humidity. Showers or thunderstorms are likely on Tuesday and Wednesday afternoons, with the chance of rain higher than 80%. New Jersey residents are advised to prepare for high temperatures though the weather in the region is not expected to be as severe as it is in some of the inland states.

=====

資料（1 C）

=====

To: All employees
From: Joe Sanders
Date: June 7, 2021
Subject: Weather advisory

To all employees,

Very hot and humid weather is expected in the next few days, and we will keep air conditioning of the entire office building running continuously from 8 a.m. through 8 p.m. this week. Meanwhile, please remember that we have made a rule to keep all the doors and windows of the rooms in the building open to keep the air moving, in response to COVID-19 concerns. Also, we are still required to wear face masks for reducing the risks of the virus infection. Therefore, air conditioning may not be as effective as you might expect, so please wear loose clothes this week to keep yourself cool and comfortable. Drink water or sports drinks regularly to keep yourself from dehydration.

Joe Sanders
Director, General Management Division

=====

- (3) What weather is expected in the state of New Jersey in a few days following June 7?
- (1) Very hot weather with low humidity
 - (2) Very hot and humid weather with some rainfall
 - (3) Severer weather than the weather in some inland states
 - (4) Heavy rain brought by a passing hurricane

- (4) What is the reason why air conditioning may not be as effective as some employees might expect?
- (1) The doors and windows are kept open, and the employees wear face masks.
 - (2) The employees drink water or sports drinks regularly.
 - (3) The employees wear loose clothes.
 - (4) The air conditioners are run for 12 hours every day.
- (5) What does Joe Sanders NOT ask the employees to do?
- (1) Keep all the doors and windows open
 - (2) Wear loose clothes
 - (3) Take off face masks
 - (4) Take in fluids regularly

次の資料（1 D）、（1 E）、（1 F）に基づいて、（6）から（10）の設問に答えなさい。

資料（1 D）

=====
PCTech News
by Roy Wagner
March 15, 2021

TMR Battery Products, Inc. in Newark, NJ announced yesterday a recall of some of their laptop computer battery PCLB1M. According to the company, some of the battery units have been reported to heat up while they are being recharged. There have been no incidents reported yet, but in order to avoid risks, the company is replacing the battery units with those of another type, PCLB1L, which supposedly does not have the heat-up problem. The company is providing information on the serial numbers of the recalled battery units on their web page at <https://www.tmrbattery.com/recall/>. The customers are encouraged to check the type and the serial number of their battery unit. If the battery is one of the recalled units, they should stop using it and contact the company through the web page.

=====

=====

IMPORTANT: PCLB1M Battery Units Recalled

We have received reports of some PCLB1M battery units becoming unusually hot during recharge. Even though there have been no incidents reported, we are replacing the units in order to prevent possible incidents. The recalled units have the serial numbers shown below.

Recalled Battery Units

Product type:

PCLB1M

Serial numbers of the recalled units:

20-11xxx

20-12xxx

21-01xxx

where xxx stands for 3 numeric digits

If your battery unit is one of the units recalled, please stop using it immediately. Then, please fill in and submit the battery replacement request form below. We will send you packaging material for returning the battery unit. Please follow the instructions given in the packaging material for sending the recalled battery unit. It will be collected by a local delivery service provider from your place, and a replacement unit will be shipped to your postal mail address.

PCLB1M BATTERY REPLACEMENT REQUEST FORM

Your battery unit serial number: 21-01021

Your name: Tom Seymour

Your postal mail address

Street: 525 Broad Avenue

City: Leonia

State: NJ

ZIP: 07605

Your phone number: 201-363-5510

Your e-mail address: tseymour@exserv.net

[SUBMIT]

資料 (1 F)

=====
From: recall@tmrbattery.com
To: tseymour@exserv.net
Date: April 2, 2021
Subject: Replacement request processed

Thank you very much for your cooperation in our efforts to recall PCLB1M battery units. We have processed your request and have shipped the replacement battery unit. We are not replacing your battery unit with another unit of the same type but with a brand-new unit of the PCLB1L type. The replacement unit has a 50% larger capacity than a PCLB1M unit. We hope you will enjoy the longer battery life of the replacement unit.

Terry Johnson
Manager, Special Service Operations
TMR Battery Products, Inc.
=====

- (6) When was the announcement of the recall made?
- (1) On March 14, 2021
 - (2) On March 15, 2021
 - (3) On April 1, 2021
 - (4) On April 2, 2021
- (7) What does the company NOT ask their customers to do if they have a recalled battery unit?
- (1) To submit a request form
 - (2) To send in the recalled battery unit
 - (3) To stop using the recalled battery unit
 - (4) To buy a new battery unit
- (8) Which of the following is a recalled battery unit?
- (1) The PCLB1M type with the serial number of 20-10121
 - (2) The PCLB1L type with the serial number of 20-12523
 - (3) The PCLB1M type with the serial number of 21-01008
 - (4) The PCLB1M type with the serial number of 21-11305
- (9) What information is NOT asked for on the online request form?
- (1) Battery unit serial number
 - (2) Battery unit product type
 - (3) Telephone number
 - (4) E-mail address
- (1 0) What is the purpose of the e-mail message?
- (1) To thank the customer for an inquiry about a new product
 - (2) To announce the release of a new product
 - (3) To explain the difference between a new product and an older product
 - (4) To inform the customer of the shipping of a product

2. 次の英文を読み、(a) ~ (h) に入れるのもっとも適切な単語を、1~10 の中からそれぞれ一つ選び、番号で答えなさい。ただし、1~10 の中には解答上不要な単語が二つ含まれている。(*のついた単語は注を参照すること。)

In general, Japan is regarded as having a rice-based food culture, but bread is also quite widely eaten. The most popular type of bread in Japan is the white, square-shaped bread that is (a) *shokupan*, which simply means “eating bread.” It is made of white flour, yeast,* milk or milk powder, butter, salt and sugar, and many people enjoy its sweet taste. *Shokupan* is sold everywhere from supermarkets to convenience stores. Every Japanese bakery makes it just as every French bakery makes plain white-flour baguettes.*

To (b) what makes *shokupan* so popular in Japan, it may be good to think of it as the bread version of a bowl of plain steamed white rice. It is often eaten along with the main dish, but it can be the main part of the meal as well. Just as people have their own tastes for different kinds of rice, many people have specific ideas about how their white slices should (c). Indeed, the ideal texture for *shokupan* may be soft, *mochimochi*, rather like Japanese rice cakes.

The weight of a *shokupan* loaf is standardized* at 340 grams or more, and the size (d) to be much the same too. There are strong regional preferences for how thinly a *shokupan* loaf is sliced. In most of the country, people like bread sliced around 1.5 to 2 cm thick or thinner than that, but in the Kinki region, people (e) big, thick slices of 2.5 to 3 cm.

Coincidentally,* the top three bread-consuming cities in Japan are Kobe, Kyoto and Nara in the Kinki region. Kobe is where people started to think of bread as a meal rather than just a snack, and Kyoto, where traditional things are (f), is famous for its excellent bakeries as well as its temples and tofu makers.

There are many ways of eating *shokupan*, (g) some unique combinations, such as sandwiches filled with potato salad or fruit and cream. Why don't you try thickly sliced Kinki-region style toast too? Crispy* on the surface and *mochimochi* inside, it's a great example of food imported from the West that has been adapted to (h) Japanese tastes!

出典：

Itou, M. (2013, September 26). Japan's secret love of a breakfast loaf. *The Japan Times*. Retrieved from <https://www.japantimes.co.jp/life/2013/09/26/food/japans-secret-love-of-a-breakfast-loaf/>を一部改変して使用

[注]

- yeast イースト、パン酵母 (菌)
- baguettes バゲット (棒状のフランスパン)
- standardized 標準、規格に合わせた
- coincidentally 偶然に、同時に
- crispy パリパリした、サクサクした

1. including	2. prefer	3. went	4. preserved	5. drive
6. called	7. suit	8. taste	9. understand	10. tends

3. 下記の設問 [A]、[B] に答えなさい。

設問 [A]

次の英文の (a) と (b) のそれぞれに入れるのもっとも適切な語句を選び、番号で答えなさい。

(1) According to the (a) research, a good night of sleep will help you not only feel (b) energetic but also improve your memory.

a (1) recently (2) latest (3) most late
(4) mostest (5) most recently (6) novelest

b (1) many (2) much (3) better
(4) more (5) best (6) good

(2) The bus left the station while (a) some tea for the trip. We had to wait one hour (b) the next bus.

a (1) we buy (2) we being bought (3) we are buying
(4) we were buying (5) we has bought (6) we had bought

b (1) for (2) of (3) into
(4) as (5) since (6) among

(3) Today, more Japanese people are worried that Japanese culture (a), so they are trying to encourage young Japanese people as well (b) foreigners to experience it.

a (1) disappearing (2) is disappeared (3) is disappearing
(4) was disappearing (5) has disappear (6) had disappearing

b (1) on (2) at (3) of
(4) for (5) but (6) as

(4) (a) university you will choose is one of the most important decisions you will make. Please ask your academic advisors (b) you make a decision.

a (1) Where (2) How (3) Why
(4) Which (5) When (6) Who

b (1) before (2) to (3) for
(4) from (5) but (6) that

(5) Nagasaki is the place (a) is known as the birthplace of English education in Japan. Unfortunately, many people (b) that English education in Japan started in Nagasaki during the Edo period.

a (1) that (2) what (3) how
(4) when (5) where (6) who

b (1) not know (2) does not know (3) has not known
(4) not do know (5) do not know (6) do not known

設問 [B]

次の各英文には、誤りが一つ含まれている。下線部（１）～（５）の中から、誤りの箇所を一つ選び、番号で答えなさい。

- (1) A fortune cookie is often served(1) as a snack after meal(2) in Chinese restaurants(3) in America. Many people believe that it is a Chinese snack(4); some historians claim(5) that it originated in Japan.
- (2) I have not seen(1) Emi on campus since we met(2) in biology class last Monday. She says(3) that she would email(4) me, but she did not(5).
- (3) Japanese computer game companies have produced(1) many great(2) games and machines. Recently, one company have sold(3) more than(4) 68 million devices(5).
- (4) You might not have heard(1) the American word “sophomore” before(2). If you are a student which(3) is in the second year of(4) university, you are called(5) a sophomore.
- (5) Many Japanese high schools(1) do not have regular classes(2) in the summer holidays. However, they remains(3) open so that students(4) can participate in club activities(5).

4. 下記の設問 [A]、[B] に答えなさい。

設問 [A]

次の (1) ~ (5) の日本語の意味に合うように、与えられた単語をそれぞれ一度だけか
ならず使って空所を補い、それぞれの英文を完成させなさい。ただし、与えられた単語は
すべて小文字で綴られているので、解答では大文字で書くべき文字は大文字で記入しな
さい。解答は、記入例を参考にし、解答欄内の4線にあわせた適切な位置・大きさに、判読
できるブロック体の文字で記入しなさい。不適切な位置・大きさの文字や判読できない文
字を含む解答は不正解と判定されます。

(1) 学校までは、10分もかからないだろう。

It will take (a) (b) (c) (d) minutes to get to the school.

• more • no • ten • than

(2) ジョンは先生たちに好かれるほど良い生徒だ。

John is (a) (b) (c) student (d) the teachers like him.

• that • a • good • such

(3) もう少しお金を持っていれば、タクシーに乗れたのに。

If I had (a) more money with me, I (b) (c) (d) a taxi.

• have • would • had • ridden

(4) 会員の全員が彼の考えに賛成したわけではなかった。

(a) (b) (c) (d) members agreed with him.

• all • the • not • of

(5) 空港で外国人に話しかけられたが、まったく英語が話せなかった。

I (a) (b) (c) (d) a foreigner at the airport, but I was not able to
speak English at all.

• by • to • was • spoken

設問 [B]

次の(6)～(10)の英文の意味を推測し、与えられた単語をそれぞれ一度だけかならず使って空所を補い、それぞれの英文を完成させなさい。ただし、与えられた単語はすべて小文字で綴られているので、解答では大文字で書くべき文字は大文字で記入しなさい。解答は、記入例を参考にし、解答欄内の4線にあわせた適切な位置・大きさに、判読できるブロック体の文字で記入しなさい。不適切な位置・大きさの文字や判読できない文字を含む解答は不正解と判定されます。

(6) The student was (a)(b)(c)(d) the contest because it is difficult to get first place.

• having • proud • won • of

(7) Mary is always complaining (a) something, but Jim is so (b)(c) (d) listen to her.

• as • to • about • kind

(8) One man seemed (a)(b)(c)(d) in the accident yesterday.

• have • injured • to • been

(9) We all made (a)(b)(c)(d) walk more than one hour a day.

• to • a • it • rule

(10) You (a)(b)(c) more running because you (d) not done much exercise recently.

• have • to • need • do

5. 次の会話文を読み、その内容に関する設問に答えなさい。

- David: Hey, Liara. How's it going?
- Liara: Hello, David. I am well, and yourself?
- David: I'm actually a little stressed because I've got four reports due next week, two for my geography class, but I'm not doing well with my history and German ones.
- Liara: Why so many? The teachers usually only give us one report per week.
- David: Yes, that's true, but I've been busy with other things and have not finished everything yet.
- Liara: Oh, right! Sorry to hear that. Do you require any help with your history one? I am not good with German.
- David: Really, you are good at history?
- Liara: Yes, it is a hobby of mine, and I often read many kinds of history books.
- David: I didn't know that. I don't want to bother you, but yes, please. Thank you.
- Liara: It is alright. I enjoy the subject, so I would be glad to help you. What do you have to write about?
- David: Wow, thanks. Well, it's about Japanese history, and I have to write about an event from the Meiji Period.
- Liara: What are you planning to write about?
- David: We can write about anything, so I chose something called the 'Meiji Restoration'. Do you know much about it?
- Liara: A little, I read a book about it last year. What have you written so far?
- David: Well, I've written why it was successful and how it helped Japan, but I'm having trouble with the introduction part of the report. I haven't even thought of what to write in the conclusion.
- Liara: Did you write about what happened during that time?
- David: That's the first thing I wrote!
- Liara: Did you write about what Japan was like before the restoration happened?
- David: Actually, not really, no. I was trying to write only about what was happening at that time.
- Liara: Well, I suggest that you first start by writing about what Japan was like before the restoration. You will then have an introduction to what happened before the event.
- David: Why didn't I think of that! You're right.
- Liara: In your conclusion, you can also talk about how things changed.
- David: You have such great ideas! Thank you so much.
- Liara: Not at all. Maybe you were worried about your many reports, and this is why it was difficult to finish up.
- David: Yes, I'll try to finish my reports as soon as I get them in the future.
- Liara: That is best. I am always glad to help.
- David: You're a good friend, Liara. Thank you.

設問

次の各文が上記の会話文の内容に合っている場合はTを、会話文の内容と異なっている場合はFを、会話文の内容に合っているのか会話文の内容と異なっているのかが不明である場合はDを、ブロック体の大文字で解答欄に記入しなさい。

- (1) David is stressed because he has a lot of work to do.
- (2) David is having trouble with two of his reports, one for geography and the other for history.
- (3) David asks Liara for help before she tells him that she is good at history.
- (4) Liara does not offer to help him before he asks her for help.
- (5) Liara has read many history books about Japan.
- (6) David's teacher said he has to write about the Meiji Restoration.
- (7) David has not yet finished writing the conclusion part of his report.
- (8) Liara thinks he should write about what happened before the Meiji Restoration in his introduction.
- (9) David first wrote about what happened during the Meiji Restoration.
- (10) David will not be able to finish the reports because he has so much stress.

二〇二二(令和四)年度

長崎外国語大学

一般入試・A日程

二月一日(火)

「国語」試験問題

受験上の注意

- 一 試験開始の合図があるまで、問題冊子は開かないこと。
- 二 解答はすべて解答用紙の指定されたところに記入すること。
- 三 問題冊子は全部で一二ページあります。

第1問 次の文章を読み、後の問いに答えよ。

今、人類の多くは、自分たちの〈国語〉を、おのが民族が、太古の昔から使ってきた言葉だと思いきむにいたっている。ところが、『想像の共同体』によれば、〈国語〉とは、いくつかの歴史的條件が重なって生まれたものでしかない。それでいて、いったん〈国語〉が生まれると、その歴史的な成立過程は忘れ去られ、忘れられるうちに、人々にとって、あたかもそれがもっとも深い自分たちの国民性＝民族性の表れだと信じこまれるようになる。〈国語〉はナショナリズムの母体となり〈国民文学〉を創り、今度はその〈国民文学〉が母体となり〈国民国家〉を創っていく。物理的に存在するわけでもないのに、人がそのためになら命を投げ打つていいとまで思う、アンダーソン^(注1)いわくの、「想像の共同体」を創っていくのである。

〈国語〉の成立にかんしての、アンダーソンの歴史的な分析が画期的なのは、資本主義の発達という、下部構造のベクトルを入れたことにある。ご存じのように、十五世紀半ば、ヨーロッパで、グーテンベルク印刷機が發明され、今まで手で写していた書物が機械で印刷できるようになった。グーテンベルク印刷機の發明が人類の〈書き言葉〉の歴史のなかでいかに大きな意味をもつに至ったかは周知の事実である。だが、アンダーソンいわく、たとえば、グーテンベルク印刷機が發明され、書物が機械で印刷できるようになっても、その印刷された書物が商品となって流通しなくては、印刷機の發明が社会を大きく変えることはない。

(実際、活版印刷機そのものは、グーテンベルク印刷機よりもまえに中国や朝鮮で發明されている。)アンダーソンによれば、A グーテンベルク印刷機の發明がのちの〈国語〉の成立に意味をもったのは、そのときヨーロッパでは資本主義がすでに十分に発達しており、書物が商品として市場で流通する下地ができていたからだという。書物が商品として市場で流通することによって、市場原理が働き、それが最終的には〈国語〉の成立を可能にしていったのであった。

グーテンベルク印刷機が發明される前、ヨーロッパの書物のほとんどは、僧侶がペンを使い、一語、一語、羊皮紙に写しとる、聖典や教義書でしかなかった。そして、それらは、当時ほぼ唯一の〈書き言葉〉であったラテン語で書かれたものであった。ラテン語とは何か。アンダーソンは言う。「ラテン語について決定的なことは、その神聖性を別とすれば、それが二つの言語を使う人々の言葉だったということにある」。すなわちラテン語とは、^{もまた}巷では〈自分たちの言葉〉で話しつつ、書物の^{ひも}紐をといたときは、〈外の言葉〉で読み書きする、

二重言語者の言葉であった。そして、それらの二重言語者は、極めて限られた数しかいなかった。ラテン語という「聖なる文字を読むことのできた文人は、広大な文盲者の大海に頭を出した小さな識字者の岩礁でしかなかった」。だが、一語、一語、そのラテン語を羊皮紙に写しとるのでは、そのような極めて限られた数の二重言語者にさえ潤沢に行き渡るだけの書物も作れない。そこへ、グーテンベルク印刷機の発明とともに、のちに「グーテンベルク聖書」とよばれるようになったラテン語の聖書がまずは印刷され、「最初の近代的大量生産工業商品」として市場に出回るようになったのである。「大量生産工業商品」とはBもの言いようで、実際は美術品のように、贅沢な本である。だが、そのような贅沢な本でも、それが商品として市場に出れば、それを買って読みたいという二重言語者の読者、すなわち消費者がすでに存在していたということであり、経済学者のような言い方をすれば、すでに供給に見合うだけの需要があったのであった。

〈C 俗語革命〉——のちに〈国語〉を可能にした〈俗語革命〉は、アンダーソンによれば、需要と供給という同じ市場原理によって、その次の段階に、おこるべくしておこった。

「グーテンベルク聖書」に続き、まずはさまざまな本がラテン語で出版されるようになる。ところが、ラテン語を読めるのは「広汎に存在してはいても薄い層に限られて」いる。したがって、ラテン語を読む読者たちの市場はじきに飽和してしまう。新たな市場を開発するために、人々が巷で話す〈自分たちの言葉〉で書かれた本が、まさに市場原理によって、出回るようになる必然性があったのである。「資本主義の論理からすれば、エリートのラテン語市場がひとたび飽和してしまえば、一言語だけを話す大衆の提示する巨大な潜在市場が手招きすることになる」。かくして〈俗語革命〉が起こる。ヨーロッパのさまざまな地域の〈話し言葉〉が、時間の差こそあれ、続々と〈書き言葉〉に生まれ変わって印刷され、出版されるようになったのである。アンダーソンの表現を使えば、さまざまな「口語俗語」が、「出版語」となったのである。最初に流通したのは、ラテン語から「口語俗語」への翻訳本である。だが、やがて「口語俗語」で直接書かれた本も流通するようになる。

「出版語」とは、〈書き言葉〉に昇格した、「口語俗語」を指す概念である。D「出版語」は、社会的な地位からいえば、ラテン語の下にくるが、〈話し言葉〉でしかない「口語俗語」よりは上にくる。人々が巷で使っている「口語俗語」は、地域別、階級別に数限りなくある。方言が数限りなくあるようなものである。それに対して「出版語」は自然に数が限られてこざるをえない。本が「大量生産工業商品」として（E）リジューンを生むためには、ある程度の規模をもって出版されなくてはならず、そのためには、「出版語」の数が制限されていか

ねばならないからである。かくして〈俗語革命〉を経たあと、ヨーロッパ全土で数限りなくあった「口語俗語」が、英語、フランス語、ドイツ語、オランダ語、イタリア語、スペイン語、ポルトガル語、チェコ語、デンマーク語、ロシア語など、いくつかの重要な「出版語」に、あるところでは早く、あるところでは遅く、それぞればらばらに時間をかけながら吸収されていった。そして、それらの「出版語」を、ヨーロッパで地域別に何百万という人間が共有するうちに、アンダーソンが「想像の共同体」とよぶ、〈国民国家〉の基礎ができていったのであった。

〈俗語革命〉から十八世紀、遅いところでは十九世紀、二十世紀初頭にかけてヨーロッパが辿った道のりは、さまざまな「出版語」が、〈国民国家〉の言葉として次第に固定されていった道りである。それは、印刷技術の発明と資本主義の発達、それに、アンダーソンが言う、「人間の言語的多様性という宿命性」とが加わって、ヨーロッパが必然的に辿ったであろう道りであり、多分に無自覚なものであった。だが、さまざまな「出版語」が〈国民国家〉の言葉として固定されていくうちに、人間には、同じ言葉を共有する人たちとは同じ共同体に属する、という思いが生まれてくる。同じ「想像の共同体」に属するという思いが生まれてくる。すると、ナショナリズムが芽生えてくる。じきにそのナショナリズムは、隣国との戦争を重ねるうちに形成されつつあった〈国民国家〉によって、自覚的に利用されるものとなる。〈国民国家〉が誕生してからヨーロッパが辿った道りとは、植民地の取り合い、独立戦争、国境争いなどの世界戦争をくり返しながら、ナショナリズムが〈国民国家〉によって、自覚的に利用されていった道りであった。また、その時代は、ヨーロッパで誕生した〈国民国家〉というものが一つの規範となり（アンダーソンの表現によれば、「モジュール」となり）、ナショナリズムとともに、世界中に広がっていった時代でもあった。

アンダーソンは書く。

そして最後に、国民は一つの共同体として想像される。なぜなら、国民のなかにたとえ現実には不平等と (b) サクシュがあるにせよ、国民は、常に、水平的な深い同志愛として心に思い描かれるからである。そして結局のところ、この同胞愛の故に、過去二世紀にわたり、数千、数百万の人々が、かくも限られた想像力の産物のために、殺し合い、あるいはむしろみずからすすんで死んでいったのである。(圏点原文)

このナショナリズムを育むのに大きく (c) コウケンしたのが、新聞などの出版物であ

り、さらには、ほかならぬ〈ア〉である。〈イ〉は、〈ウ〉という均質な空間に同時に生きる「国民」というものを想像させ、その「国民」に対して同胞愛をもつのを可能にする。そして、そのような〈エ〉をそもそも可能にしたのが、〈オ〉である。〈カ〉は、「出版語」が〈キ〉の言葉に転じたときに生まれるものだが、一度生まれてしまえば、「国民」がもつ国民性の本質的な表れだとされるようになる。

(中略)

『想像の共同体』という本が出てからわずか四半世紀のあいだに、世界は大きく変わった。それ以前に、^(注2)そもそもソビエト連邦が崩壊し、マルクス主義のインターナショナリズム批判として書かれた『想像の共同体』のあちこちが古びた印象を与えることになった。だが、『想像の共同体』がいまだ必読書だとされているのは、この本の核心をなす冒頭の分析が、今なお意味をもっているからであり、その核心の部分とは、〈国民国家〉の成立にあたり、〈国語〉と〈国民文学〉とナショナリズムとがいかに関わりついていたかを分析している部分にはかならない。

^{みずむらみなえ}
(水村美苗『日本語が亡びるとき——英語の世紀の中で』による)

- (注) 1 アンダーソン——ベネディクト・アンダーソン(一九三六―二〇一五)。アイルランド生まれのイギリスの政治学者。主著『想像の共同体』は一九八三年刊。
- 2 ソビエト連邦——正式名称はソビエト社会主義共和国連邦。一九九一年に連邦が解体され、ロシア連邦等の構成国に分裂した。

問 1 傍線部 (a) ㄱ (c) のカタカナを漢字で書け。

問 2 傍線部 A 「グーテンベルク印刷機の発明がのちの〈国語〉の成立に意味をもった」背景の説明として、次の文の空欄 い ㄱ は に適当な語を補え。

資本主義は需要と供給という い ㄱ によって、聖書などラテン語の本をごく少数の ろ の間に行き渡らせ、その市場が飽和すると、ヨーロッパのさまざまな口語俗語を は ㄱ にして印刷させ、さらに利潤を生むために は の数を制限して、それらによって書かれた本を巨大な市場に流通させるという役割を果たした。

問 3 傍線部 B 「ものの言いよう」とは、本文ではどのような意味か。二十字以内で答えよ。

問 4 傍線部 C 「俗語革命」とは何か。本文中の言葉を用いて三十字以内で答えよ。

問 5 著者は、言語(言葉)の社会的地位について傍線部 D のような評価を述べている。つぎの①ㄱ④のうち、**著者の主張ではないもの**を二つ選べ。

- ① 人々が巷で使っている「口語俗語」であれば、異なる二つの「口語俗語」の間に社会的地位の高低はない。
- ② 〈書き言葉〉は、そうでない言語(言葉)よりも社会的地位が高い。
- ③ 限られた数の人しか用いていない言語は、より多くの人が用いている言語よりも社会的地位が低い。
- ④ 神聖性のある言語は、神聖性のない言語よりも社会的地位が高い。

問 6 文中の空欄 ～ を補う語として、最も適当なものを、次の

①～③からそれぞれ一つ選べ。

- ① 国民国家
- ② 国民文学
- ③ 国語

問 7 本文における「想像の共同体」とは何か。六十字以内で答えよ。

第2問 次の文章を読み、後の問いに答えよ。

1583年、A ガリレオ・ガリレイが「振り子の等時性」という法則を発見します。「振り子は、(振り幅がある程度以上にならなければ)その往復にかかる時間は一定である」ということが、ここで初めてわかったわけです。ガリレオは、実験的科学の創始者であると同時に医学生でもあり、脈を測るということに興味があったようです。それで、自分の脈拍と、ぶら下がっているランプが揺れているのを比較してみた。人間の脈は安静時にはだいたい一定なので、これを時計がわりに、振り子がどのように動くかを測ったのですね。そして、振り子の振れ幅が大きくても小さくても、かかる時間はほとんど同じである、ということに気づきました。この法則の発見が、時計の進歩の大きなエポックになります(実際に振り子時計を製作したのは、オランダのホイヘンスと言われています)。

振り子時計ができて時計の精度は(a) カクダンに上がり、誤差は1日10分程度にまで縮まりました。この精度の高い時計の誕生が、ケプラーの天文運行法則「ケプラーの法則」の発見や、^(注2)ニュートン力学にもつながっていったと想像できます。つまり、時計の精度が上がったことで、いろいろな分野の測定の精度が上がり、科学が一気に進化したといえるのです。この点において、ガリレオの功績は非常に大きいものでした。

その頃から、時計の針が二つになりました。一つめの針は、日時計における影の動きに相当します。北半球で時計の針が右回りなのは、日時計の影の動きに由来しているからです(日時計の影は、北半球では右回り、南半球では左回りに動きます)。

二つめの針は、分針です。時計の精度の向上に伴い、1時間を60に割った「分(minute: ミニット)」という単位ができました。ようやく、1分間、分という概念ができたわけです。ミニットは「小さい」という意味です。

さらに時計の精度が上がると、1分という時間も、もっと細かく分けたくなくなってきますね。それが「秒」です。もとは「second minute: セカンド・ミニット」つまり「第2の分」と呼ばれていましたが、そこから「ミニット」が脱け落ちて、ただの「セカンド」=秒になりました。

B 振り子時計ができて時計の精度が上がると、どうして天文学や物理学も進展するのでしょうか。

当時、デンマークのテイコ・ブラーエが天文台をヴェン島につくり、天体観測の膨大なデータをとっていました。当時の天文学の基本は、何時何分にどの星がどの位置にあった

かを記録することだったと思います。地上の時計の何時間で、その星が何度動いたか、ということですね。当時の中国の天文台にも水時計があったことを考えても、やはり地上の時計を用いて空のバターンを記録していたことは確かでしょう。観測の基準となる時計が正確であればあるほど、天体観測の結果も正確なものとなるわけです。

そして、天文学者の**(b)** センクシヤであるドイツのケプラーは、ティコ・ブラーエの天文台から観測データを受け取っていました。振り子時計に基づいた正確な観測結果があったからこそ、ケプラーは惑星の運行に関する重要な三つの法則を発見できた、ということが出来ます。ちなみにケプラーは1609年から19年にかけて、「第1法則(楕円軌道の法則)」「第2法則(面積速度一定の法則)」「第3法則(調和の法則)」の三つの法則を発見、発表し、これによってコペルニクスの唱えた地動説の信憑性しんぴやうせいが増したともいわれています。

この発見は、さらにニュートン力学につながっていきます。ニュートンは、ティコ・ブラーエによる地道なデータ、ケプラーの発見した法則性等を**(c)** トウゴウして、万有引力の法則をはじめとする運動法則の体系をつくりあげ、古典物理学を完成させたのです。

力学というのは、いろいろなものがどのような動きをするかという運動法則のことなので、運動のスピードも非常に重要な要素になります。つまり、やはり時間を計ることが必ず関係してくるということであり、正確な時間をもとにした精密なデータがなければ導き出すことはできない、ということになります。時計の進化と科学の進化は、当然のごとくつながっていました。

(中略)

時計の精度が高まるにつれ、より細かく時を分けるようになり、「1秒」という単位の表示をする時計の登場とともに、人々の間にも「1秒」という概念が定着していきました。

最初に「秒」という細分化した時間を求めたのは、私は、天文学者ではないかと思っています。天文学者、つまり王様付きの暦をつくる役職の人たちは、一定の時間に星が何度動いたかということが気になるでしょう。天文学者とは「天にある時計を計る人」ですから、天にある非常に正しく動く時計(太陽や月)と地上で作った時計を比較し、つきあわせながら観測していたと想像できます。そのとき、地上にある時計が正しいものでないと話にならないわけです。

王は神の使いであるわけですから、暦をつくり、日食や月食を予言することは、国を治めるにあたって最も重要な仕事でした。そういったことが予言でき、人民に「心配無用である。落ち着きなさい」ということができないといけない。古代中国では、そのような予言を外した天文学者は死刑になるなど、大変な目に遭っています。そのことから、治世において暦がどれだけ重視されていたかわかるといえます。

もう一つ、宗教的・治世的な目的とは別に、16～17世紀のヨーロッパにおいて時計が国家的な事業として大発展したきっかけがあります。これはデーヴィッド・ソベル著の『経度への挑戦——一秒にかけた四百年』という本に詳しく書かれています。

当時は大航海時代といわれ、ヨーロッパの船がどんどんアジアやアフリカ、アメリカ等に漕ぎ出していき、象牙や織物、香辛料など、さまざまな珍しい品々を持って帰りました。アジアやアフリカなどから持ち帰った品々は、莫大な富を生み出しました。

その背景には、造船技術の向上があります。つまり、よい船ができたことで、遠洋まで航海できるようになったわけです。

先陣を切ったのはポルトガルです。まず、バスコ・ダ・ガマがインド航路を見つけてインドに到着しました。そしてインドと貿易し、金銀財宝や胡椒等のスパイス、高価な品々を積んで帰ってきた。そのポルトガル船一隻分の荷物の価値は、当時のイギリスの国庫の半分にも相当したそうで、ポルトガルの船はしばしばイギリスの軍艦に襲われました。イギリス軍は海賊行為をして、財宝を自国に持って帰っていたのです。当時は海上の船の位置を簡単に知る方法がなかったため、船は安全のためにあまり陸地から離れることができませんでした。そのため狭い海域に商船や捕鯨船がひしめき合うことになり、海賊にとっては好都合な状況だったといえます。

いずれにしても、一度でも航海に成功すると、どんな貧乏人であっても、すぐに貴族になれた。それほど航海は、ハイリスク・ハイリターンなことでした。

ハイリターンはもちろん莫大な富や、それによって得られる地位のことですが、ハイリスクというのは、海賊に襲われる危険性だけではなく、当時、緯度の計測は太陽をもとに容易に割り出せても、経度の計測がとても難しく、自分たちが海上のどこにいるかわからなくなりやすかったのです。となると、船は目的地にいつ到着するかわからず、当然、無駄な遠回りも出てきます。航海が長引けば長引くほど、積んできた飲料や食糧が尽きて船員が（d）ガジしたり、ビタミンC不足による壊血病で死亡したりする確率は高まります。普通の航海でも、壊血病で船員の半分ぐらゐは死んでいたといえます。船員はほとんど使い捨て

のようなものでした。

海賊の襲撃や、航海の長期化を避けるためにも、海上で船の位置を簡単に知る方法が求められました。陸から離れて目的地まで最短距離で行こうとするとき、何にも手がかりがないところでも、船のいる位置＝C 緯度と経度を知る方法はないのでしょうか。

緯度については、太陽や北極星の高さを見ればわかります。しかし経度については、地球自体が回転しているために手がかりがないのです。「経度を知る」ということは、当時は不可能なことの代名詞といわれ、経度の計測は17世紀の科学の最大のテーマとなっていました。

やすだまさみ
(安田正美『1秒って誰が決めるの?』による)

- (注) 1 ケプラーの法則——17世紀初めにケプラーによって発見された惑星の運動に関する法則。本文中にあるように、三つの関連する法則で構成されている。この惑星の運動は引力の存在を前提とするため、ニュートン力学につながっていく。
- 2 ニュートン力学——17世紀終わりにニュートンが物体の運動に関する諸相を体系化した学問分野。20世紀以降の新しい学問分野である量子力学に対して古典力学とも呼ばれる。

問 1 傍線部 (a) ～ (d) のカタカナを漢字で書け。

問 2 傍線部 A 「ガリレオ・ガリレイが「振り子の等時性」という法則を発見します。」とあるが、「等時性」の意味を、文中の言葉を使い、かつ、「振り子」の言葉及び概念を用いずに二十字程度で説明せよ。

問 3 ガリレオが「振り子の等時性」の測定に脈拍を利用したのは、安静時の脈拍は安定していて時計がわりに使えたからだが、ではなぜ時計を使って測定しなかったのか。その理由として適当なものを、次の①～⑤のうちから一つ選べ。

- ① 当時の時計は高価でガリレオの経済力では買えなかったから。
- ② 当時の時計は持ち運びができないため振り子の近くで使えなかったから。
- ③ 当時の時計では短い時間を測定することができなかったから。
- ④ たまたま水不足で水時計を動かすことができなかったから。
- ⑤ 日時計は太陽の光が必要で、夜や曇りの日には使えなかったから。

問 4 傍線部 B 「振り子時計ができて時計の精度が上がると、どうして天文学や物理学も進展するのでしょうか。」とあるが、その理由として適当なものを、次の①～⑤のうちから二つ選べ。

- ① ある星がある位置にあった時間を記録することで天体観測が成り立つから。
- ② 脈拍の間隔を計測して記録することで健康状態を把握できるから。
- ③ 一定の運動にかかる時間を計測することで運動の法則が解明できるから。
- ④ 海賊が襲撃する時間帯を知ることによって積み荷を安全に輸送することができるから。
- ⑤ 日食や月食を正確に予言することで王の権威を維持することができるから。

問 5 傍線部 C 「緯度と経度を知る方法」とあるが、緯度の計測の手がかりは何か。文中から九字で抜き出せ。

問 6 経度の計測が難しいのはなぜか。文中の言葉を用いて二十五字以内で答えよ。

問 7 緯度や経度を知ることによって航海のリスクを減らせるのはなぜか。文中に指摘された二つの理由をまとめて百二十字以内で説明せよ。

2022(令和4)年度

長崎外国語大学
一般入試・A日程
2月1日(火)

「地歴・公民」試験問題

受験上の注意

- 1 試験開始の合図があるまで、問題冊子は開かないこと。
- 2 「地理B」「日本史B」「世界史B」「政治経済」「現代社会」の5科目から1科目を選択して解答すること。
- 3 解答はすべて解答用紙の指定されたところに記入すること。

地理B

第1問 世界の宗教について、下の問いに答えなさい。

①キリスト教、②イスラム教、③仏教は、世界的なひろがり和生活文化への影響から、三大宗教とされ、世界宗教と呼ばれている。それに対して、ユダヤ教や④ヒンドゥー教、中国の道教・儒教、日本の神道などは、特定の民族と強く結びついているので、民族宗教と言われる。

キリスト教は（ア）を聖地とし、ローマ帝国の拡大とともに、地中海沿岸地域からヨーロッパ各地に普及した。ローマ帝国の東西分裂によって、東方正教が（イ）を中心に発展し、東ヨーロッパやロシアの（ウ）民族の地域につたわった。また、16世紀の宗教改革によりプロテスタントがカトリックから分派し、北・中央ヨーロッパの（エ）民族の地域につたわった。キリスト教はさらにヨーロッパの植民地の拡大により、南北アメリカやアフリカ、アジアなどにも普及していった。

イスラム教は7世紀にメッカや（オ）を中心におこり、西アジアから北アフリカ、さらに軍事力によって（カ）半島や東ヨーロッパの一部、インド北部まで拡大した。また、商業ルートに沿って、中央アジアから中国、東アフリカ沿岸部や東南アジア島嶼部にもひろがった。イスラム教はメッカを聖地とし、1日5回のメッカに向かったの礼拝、⑤豚の食肉禁忌など、生活様式がコーラン（教典）などで強く定められている。しかし、スンナ（スンニ）派と⑥シーア派では教義の解釈が異なり、両派は激しく対立してきた。

仏教は紀元前5世紀ころにガンジス川中流域でおこり、インドやスリランカ、⑦東南アジア（ベトナムを除く）へは（キ）仏教が、中国や東アジアへは商業ルートを通じて（ク）仏教が伝わった。仏教は東南アジアや東アジアを中心に分布し、中国や朝鮮半島の道教・儒教、日本の神道、アニミズムとも共存している。しかし、インドのヒンドゥー教や東南アジアのイスラム教との競合により、分布域をせばめることとなった。

問1 下線部①～④は、各宗教内の諸派も含めて世界で最も信者数の多い宗教となっているが、次の表のA～Dに該当する宗教を①～④の記号で答えなさい。

世界の宗教別の人口（2010年）

宗教	百万人（%）
A	2,281（37.2）
B	1,553（25.4）
C	943（15.4）
D	463（7.5）
その他	873（14.2）

（参考：『地理統計要覧 2017年版』二宮書店）

問2 文章中の（ア）～（ク）にあてはまる適当な語句を（a）～（p）から一つずつ選び、記号で答えなさい。

- (a) メディナ (b) イタリア (c) ブダペスト
 (d) イベリア (e) ケルト (f) バグダッド
 (g) アデン (h) 上座部 (i) チベット
 (j) ラテン (k) エルサレム (l) ゲルマン
 (m) スラヴ (n) 大乘 (o) コンスタンティノーブル
 (p) 原始

問3 下線部④に基づくインドの身分制度であるカースト制では、4つの身分（ヴァルナ）及びその下の層（不可触民）とそれに対応する職業（ジャーティ）が、社会階層として固定化されてきたが、次の表のA～Eに当てはまる階層の名称を、下の選択肢（a）～（h）から一つ選び、記号で答えなさい。

ヴァルナ（身分）	ジャーティ（職業）
A	僧侶
B	王侯、武士
C	商業
D	鍛冶屋、理髪屋ほか
E	皮革業、清掃ほか

- (a) クシャトリヤ (b) ヴィシュヌ (c) バラモン
 (d) ダリット (e) シュードラ (f) バーラト
 (g) ヴァイシャ (h) クリシュナ

問4 下線部⑤について、イスラム教における食物の禁忌に当たらないものを何と呼ぶか、**カタカナ**で答えなさい。

問5 イスラム教の宗派である下線部⑥を国教としている国を（a）～（d）から一つ選び、記号で答えなさい。

- (a) サウジアラビア (b) イラン
 (c) エジプト (d) バングラデシュ

問6 下線部⑦に関連して、次の（1）～（2）の問いに答えなさい。

（1）東南アジアの国々の中で、キリスト教の信者の比率が最も高い国を（a）～（d）から一つ選び、記号で答えなさい。

- (a) インドネシア (b) マレーシア
 (c) ベトナム (d) フィリピン

(2) また、その国の位置を、下の地図中の①～④から選び、記号で答えなさい。



第2問 次の各文章の下線部3箇所について、**すべて正しければ0、どれか1箇所が誤っていれば1** (誤りがある場合は1箇所のみ)、と記入しなさい。

- 1 中生代後期から新生代に造山運動が生じた新期造山帯は、現在のプレートの境界に位置していることが多く、地震や火山活動が活発であり、現在でも新しい山地・山脈が成長しているところである。これら地域では銀・銅・亜鉛などの鉱産資源が豊かであり、褶曲した背斜構造の地層には石炭が埋蔵されていることも多い。アトラス山脈からヒマラヤ山脈を経て、大スンダ列島に続くアルプス=ヒマラヤ造山帯がこれにあたる。
- 2 ニューイングランド地方からミシガン州、ウィスコンシン州にかけて広がっている春小麦地帯は、アメリカの農業地帯の一つである。冷涼で湿潤な気候であること、ボストン、ニューヨークやシカゴといった大都市に近いことなどに恵まれて発展してきた。家族労働中心の集約的経営であるが、大消費市場を背景として、規模はヨーロッパよりは大きいといわれている。
- 3 地殻変動による土地の沈降や海面上昇により、陸地が海面下に没してできた地形を沈水海岸といい、かなり複雑な海岸を形成することが多い。氷河の浸食をうけた深い谷に、海水が入り込んでできた細長い湾や入江がフィヨルドとよばれる。海岸はU字谷で高く奥深くまで続くが、湾の最奥部は比較的広くなっている。穏やかで静かな湾を形成しているが、平地が背後に少なく陸上交通が不便であることから、大規模な港は発達しにくい。
- 4 亜熱帯高圧帯から高緯度へと吹く西風を偏西風という。温帯では真夏以外は上空を偏西風が吹き、西から東へ天気は変化する。また、気圧帯の季節変化により南北に移動するが、南北に蛇行すると寒波・熱波などの異常気象が起こりやすい。偏西風の中で特に風速が強い風をジェット気流といい、その風速は冬に低緯度へと移動しながら強まり、中緯度の日本にも周期的に寒波をもたらす。このジェット気流によって日本とアメリカを飛行する航空機は影響を受け、ジェット気流が強い季節には、日本からアメリカへの飛行時間よりもアメリカから日本への飛行時間の方が短くなる場合がある。
- 5 領海の外側にあり、沿岸から200海里(約370 Km)までに設定される海域が排他的経済水域である。1982年に調印された国際海洋条約で、水産資源や鉱産資源の調査・開発などに沿岸国の主権が認められた。ただ、日本を含め各国がこの海域を設定することにより、公海が狭まり漁場が制限され、日本にとっても沖合漁業や遠洋漁業の面では大きな打撃を受け漁獲量が減少した。日本の水産会社などは、各国の現地資本と合弁の漁業会社を設立して水産物を確保し、日本へ輸出するようになった。
- 6 オランダ人が1569年に考案した図法で、正角円筒図法とも呼ばれる正角図がメルカトル図法である。緯線・経線は平行な直線で互いに直交し、高緯度ほど面積は誇張され距離は拡大される。ただ、緯経線が直交し、経線はどの地点でも南北を示し、地図上の任意の2点を結ぶ直線が等角航路となることから、羅針盤による大航海時代には重要な図法であ

った。

- 7 本州の中部には、フォッサマグナと呼ばれる大地溝帯があり、その西縁に糸魚川 - 静岡構造線という大断層線が走り、日本列島を東北日本と西南日本に二分している。東北日本は比較的新しい地質時代の地層や火山が多く、西南日本は古い地層が分布している。この西南日本を丘陵や高原が多い内帯と、標高が高く険しい山地が続く外帯に二分している大断層が南海トラフである。
- 8 1970年代に、サハラ砂漠南縁のステップ地域のサヘルで深刻な干ばつが起こり、砂漠化が注目されるようになった。こうした砂漠化は気候変動など自然要因だけでなく、多くは自然要因をきっかけにした人為的要因が重なり砂漠化が起こると考えられている。その人為的な要因には、人口増加による樹木の過伐採・過耕作、ヤギや羊の過放牧、土壌の浸食・塩害を起こす過灌漑などがあげられる。砂漠化が進み不毛の地が拡大すれば、植生が失われダストストームも起こりやすくなり、元の環境に戻すのは難しい。
- 9 さとうきびは、原産地が熱帯アジア、太平洋の島々で、イネ科の多年性作物である。茎を刈って汁を絞り煮詰めて砂糖を精製する目的で栽培される。生育期には高温多雨で、収穫期に乾燥するサバンナ気候やモンスーン気候が適するといわれ、ブラジルとインドネシアが2大生産国である。そのブラジルでは、さとうきびを発酵させてバイオエタノールをつくり自動車燃料の一部として利用されている。
- 10 様々な要因により、中国南部の福建省や広東省などから、主に東南アジアなどに移住して現地の経済界で活躍している中国人を華僑と呼ぶが、その移住先でチャイナタウンを形成するなど互いの結びつきは強く、また本国の親せきに送金するなど出身地との結びつきも強いといわれる。中国国外に移住した中国人の子孫で、移住先の現地で出生し、生まれた国の国籍を取得して定着している中国人は華人と呼ばれ、一般的に2世以降を称することが多い。ただ、最近では中国系住民を総称して華人と呼ぶ場合もある。

第3問 次の文章を読んで、下の問いに答えなさい。

第2次世界大戦後、アジア、アフリカ、ラテンアメリカの発展途上国では死亡率が低下して人口が急激に増加し、その増加ぶりは①人口爆発とよばれた。1970年代から発展途上国での人口増加率は低下してきたが、毎年7000万～8000万人の増加数に達し、2000年代の現在では世界の総人口は70億人を超えている。地球が養える可容人口は約60億人から160億人の間とされており、このままでは人類全体の生存が困難に陥る、深刻な問題となっている。発展途上国の人口増加は国際的な課題となっており、②出生率の低下のために国際社会が発展途上国と協力して行動計画の実施にあたっている。他方で、ヨーロッパや日本などの先進国では③少子高齢化により人口の高齢化と人口減少が同時に進んできており、年金や医療保険、介護保険などの社会保障制度の維持のために、生産年齢人口の負担が大きくなり、労働力の不足も深刻化しており、各国で対策が進められている。

問1 下線部①の人口爆発が引き起こす問題について、次の語句をすべて用いて100字程度で説明しなさい。なお、文章中で語句を使用した箇所には下線を引くこと。

《語句》 居住可能地域 食料 資源

問2 下線部②の発展途上国の出生率低下のための取り組みについて、次の語句をすべて用いて100字程度で説明しなさい。なお、文章中で語句を使用した箇所には下線を引くこと。

《語句》 家族計画 教育 NGO

問3 下線部③の先進国における少子高齢化への対策について、次の語句をすべて用いて100字程度で説明しなさい。なお、文章中で語句を使用した箇所には下線を引くこと。

《語句》 ワークライフバランス 子育て支援 社会保障制度

日本史B

第1問 次の【A】～【E】は、いずれも宮内庁三の丸尚蔵館所蔵の美術品で、2021年9月30日付けで、国宝に指定されたものである。これらの絵画・書跡に関する下の問いに答えなさい。

【A】 春日権現験記絵 高階隆兼



【B】 蒙古襲来絵詞




【C】 唐獅子図屏風 (右隻)



【D】 動植綵絵 伊藤若冲



【E】 屏風土代 小野道風



問1 【A】は、延慶2年（1309）ごろ、春日神社に奉納された絵巻物である。この春日神社は、何氏の氏神を祀った神社か。（a）～（d）から一つ選び、記号で答えなさい。

- (a) 蘇我氏
- (b) 大伴氏
- (c) 紀氏
- (d) 藤原氏

問2 【A】は、平安時代以降、中国風の主題をもつ画風に対して、日本独自の事象風物を描いた社寺縁起絵巻の代表作とされるが、このような絵画の様式を何というか。（a）～（d）から一つ選び、記号で答えなさい。

- (a) 大首絵
- (b) 浮世絵
- (c) 大和絵
- (d) 錦絵

問3 平安時代に描かれたもの**ではない絵巻**を（a）～（d）から一つ選び、記号で答えなさい。

- (a) 鳥獣戯画
- (b) 平治物語絵巻
- (c) 伴大納言絵巻
- (d) 信貴山縁起絵巻

問4 【B】は、蒙古襲来の様子を描いたものであるが、当時鎌倉幕府の第8代執権であったのは誰か。**漢字**で名前を答えなさい。

問5 【B】は、2回の蒙古襲来のうち文永の役、弘安の役、いずれの様子を描いたものとされているか答えなさい。

問6 【C】は、狩野派の誰による作品とされているか。（a）～（d）から一つ選び、記号で答えなさい。

- (a) 狩野正信
- (b) 狩野元信
- (c) 狩野永徳
- (d) 狩野探幽

問7 智積院襖絵や竹林図屏風などの作品で知られる、桃山文化を代表する絵師として狩野派と並ぶ名声を得た人物を（a）～（d）から一つ選び、記号で答えなさい。

- （a）長谷川等伯
- （b）菱川師宣
- （c）雪舟
- （d）尾形光琳

問8 【D】を描いた伊藤若冲晩年の寛政年間（1789～1801）のきわめて短い期間（約10ヶ月）、三代目大谷鬼次の奴江戸兵衛などの作品を残し、浮世絵界で活躍した絵師の名前を、漢字で答えなさい。

問9 【E】は、平安時代中期の能書家である三跡の一人、小野道風の手によるものとされている。三跡でない人物を（a）～（d）から二つ選び、記号で答えなさい。

- （a）橘逸勢
- （b）藤原行成
- （c）藤原佐理
- （d）空海

第2問 次の【A】【B】を読んで、下の問いに答えなさい。

【A】【資料1】は、天保十三年（1842）の宗門改帳（原漢文、一部表記を改めた）で、ここに記されている人々が「①切支丹宗門」ではないことを「天樹寺」が証明するものである。【資料1】中にある「無高」とは田畑を所有しない農民のことで、家族ごとに名前・年齢・続柄が記載されている。

【資料1】

無高
一、禪宗天樹寺旦那 多七
年四拾才
同人
一、同寺 旦那 女房てん
年三拾四才

〈中略〉右は拙寺旦那に紛れ無く御座候。若御法度の切支丹宗門の由訴人御座候はば、何方迄も罷出、急度申し披き仕るべく候。自然寺替候ところこれ有り候はば、其旨趣、庄屋（ア）へ早速相断申すべく候。後日のため御請判、仍て件の如し。〈中略〉

②天保十三寅年（1842）三月 禪宗天樹寺（印）

【B】右の図は、『東京パック』（1933年6月1日）に掲載された風刺画である。文字が逆になっているのは、ガラス越しに外を眺めているからで、③うなだれる男性と洋装の女性、それを④監視する警官の姿が描かれている。そして、車内では裕福な男性がたばこをくゆらせている。『東京パック』は1905年に創刊された漫画誌で、⑤日露戦争によって大きく部数を伸ばしたが、以後廃刊と創刊を繰り返しながら⑥1941年まで存続し、⑦大正デモクラシーに端を発するプロレタリア美術の作家達も参加していた。



問1 下線部①に関連した江戸幕府の政策として、もっとも適当なものを(a)～(c)から一つ選び、記号で答えなさい。

- (a) 17世紀初頭にバテレン追放令が出され宣教師が国外に追放されたものの、信教自体は容認されていた。
- (b) 島原の乱でキリスト教徒の抵抗にあったことから、直轄領に禁教令を出してキリシタンを国外に追放した。
- (c) 徳川家光は、朱印状のほか老中発行の書状を携えた奉書船の制度を始め、やがて奉書船以外の海外渡航を禁じた。

問2 江戸時代の農民・農業に関連して述べた次の(1)～(3)について、古いものから年代順に正しく配列したものを(a)～(d)から一つ選び、記号で答えなさい。

- (1) 田畑永代売買の禁令が出された。
- (2) 田沼意次が印旛沼干拓事業に着手した。
- (3) 大蔵永常が農書『広益国産考』を著した。

- (a) (2) → (3) → (1)
- (b) (2) → (1) → (3)
- (c) (3) → (2) → (1)
- (d) (1) → (2) → (3)

問3 江戸時代における禅宗の動向としてもっとも適当なものを(a)～(d)から一つ選び、記号で答えなさい。

- (a) 17世紀半ばに来日した隠元隆琦が黄檗宗を伝えた。
- (b) 寛永寺と増上寺が将軍の菩提寺となった。
- (c) 本末制度が整備された影響で、本願寺が東西に分かれた。
- (d) 宗門の一派である不受不施派が幕府から弾圧を受けた。

問4 (ア)には、村方三役のうち、庄屋の補佐役で地域によっては年寄とも呼ばれた役職名が入るが、それは何か。(a)～(d)から一つ選び、記号で答えなさい。

- (a) 組頭
- (b) 名主
- (c) 代官
- (d) 肝煎

問5 下線部②の年に起こった出来事としてもっとも適当なものを(a)～(d)から一つ選び、記号で答えなさい。

- (a) 異国船打払令を緩和する形で薪水給与令が出され、漂着船のみ燃料・水の供与が認められた。
- (b) ペリーが浦賀に来航し、日本に開国を要求した。
- (c) 長崎貿易による金銀の流出を防ぐため、海舶互市新令が出された。
- (d) 浅間山が大噴火し、前年からの冷害の影響も重なって、東北地方を中心に大規模な飢饉が発生した。

問6 下線部③に暗示されるような、昭和初期の社会情勢としてもっとも適当なものを(a)～(d)から一つ選び、記号で答えなさい。

- (a) 米騒動が起き、米の安売りを求める暴動が全国的に拡大した。
- (b) 重要産業統制法が施行され、カルテルの統制と強化がはかられた。
- (c) 労働争議が頻発し、日本労働総同盟や日本農民組合が結成された。
- (d) 困窮する農民が負債の延納などを求め、蜂起する秩父事件が起きた。

問7 下線部④に関連し、特別高等警察の捜査により共産党幹部が大量に逮捕された1929年の事件を(a)～(d)から一つ選び、記号で答えなさい。

- (a) 大逆事件
- (b) 大津事件
- (c) 五・一五事件
- (d) 四・一六事件

問8 下線部⑤に際し、「ああをとうとよ戦ひに 暖簾^{のれん}のかげに伏して泣く 君死にたまふことなかれ」と嘆く詩を詠んだ人物の名前を、漢字で書きなさい。

問9 下線部⑥以後の出来事として適当なものを(a)～(d)から一つ選び、記号で答えなさい。

- (a) 中国は「満州、台湾及澎湖島ノ如キ日本国カ清国人ヨリ盗取シタル一切ノ地域ヲ 中華民國ニ返還スルコト」をカイロ宣言で要求した。
- (b) 「大日本帝国政府及独逸^{およびドイツ}国政府」は「共産主義的破壊ニ対スル防衛ノ為^{ため}協力」の

必要性を認め、「共産『インターナショナル』ノ活動ニ付、相互ニ通報シ、必要ナル防衛措置」をとることなどを定めた日独防共協定を結んだ。

- (c) 岡田啓介内閣は「政府は愈々国体の明徴に力を効し其の精華を發揚せんことを期す」という声明を發した。
- (d) 日本政府は「平和維持ノ方策殊ニ東洋平和確立ノ根本方針ニ付連盟ト全然其ノ所信ヲ異ニスルコトヲ確認」したため「連盟規約第一条第三項ニ基キ帝国カ国際連盟ヨリ、脱退スルコトヲ通告」した。

問 10 下線部⑦の時代の文化に関する説明としてもっとも適当なものを (a) ~ (d) から一つ選び、記号で答えなさい。

- (a) 市民社会の発展とともに大衆メディアが登場し、『国民之友』『太陽』『中央公論』などの雑誌が創刊された。
- (b) 東京美術学校を辞した岡倉天心が日本美術院を設立し、菱田春草や横山大観らがこれに参加した。
- (c) 市川団十郎・尾上菊五郎・市川左団次らの歌舞伎俳優が人気を博し、「団菊左時代」と呼ばれた。
- (d) タイピストや電話交換手などの職業婦人が現れ、大都市のターミナルデパートでモダンボーイ・モダンガールが買い物を楽しんだ。

第3問 資料を参考にして、問いに答えなさい。

問1 【資料1】は荘園の支配構造を示す文書であるが、そこに登場する中原高方、藤原実政、願西、高陽院内親王の役割について、次の語句をすべて用いて100字程度で説明しなさい。なお、文章中で語句を使用した箇所には下線を引くこと。

《語句》 預所職 領家 本家

【資料1】鹿子木の事

- 一、当寺の相承は、開発領主沙弥*寿妙嫡々相伝の次第なり。
- 一、寿妙の末流高方*の時、権威を借らむがために、実政卿*を以て領家と号し、年貢四百石を以て割き分ち、高方は庄家領掌*進退の預所職となる。
- 一、実政の末流願西微力の間、国衛の乱妨を防がず。この故に願西、領家の得分二百石を以て、高陽院内親王*に寄進す。件の宮薨去の後、御菩提の為め〈中略〉勝功德院を立てられ、かの二百石を寄せらる。其の後、美福門院*の御計として御室*に進付せらる。これ則ち本家の始めなり。

- *沙弥：在俗の僧 *（中原）高方：寿妙の孫 *実政卿：藤原実政
*領掌：支配・管理する *高陽院内親王：鳥羽院の娘
*美福門院：高陽院内親王の母 *御室：仁和寺（京都市）

問2 日米修好通商条約調印を巡る（a）（b）（c）の人物の動向について、次の語句をすべて用いて100字程度で説明しなさい。なお、文章中で語句を使用した箇所には下線を引くこと。

《語句》 安政の大獄 尊王攘夷



問3 【資料2】は大日本帝国憲法の条文、【資料3】は「新日本建設に関する詔書」すなわち天皇の人間宣言の一部である。これらを参考に、戦前と戦後の天皇の地位に関する違いと共通点について、次の語句をすべて用いて100字程度で説明しなさい。なお、文章中で語句を使用した箇所には下線を引くこと。

《語句》 神話 日本国憲法 世襲

【資料2】

第一条 大日本帝国ハ万世一系ノ天皇之ヲ統治ス

(第二条省略)

第三条 天皇ハ神聖ニシテ侵略スヘカラス

【資料3】

朕ト爾等国民トノ間ノ紐帯ハ、終始相互ノ信賴ト敬愛トニ依リテ結バレ、単ナル神話ト伝説トニ依リテ生ゼルモノニ非ズ。

世界史B

第1問 次の文章を読んで、下の問いに答えなさい。

17世紀は、イギリス史上における革命の時代である。この時代のヨーロッパは、ルネサンスと大航海によって彩られた①前世紀までとは対照的に、未曾有の異常気象に襲われた。各地で不作や飢饉が間断なく続き、局地的な暴動・一揆や大規模な反乱・戦争が頻発するという事態にみまわれていた。ヨーロッパ各国は、「17世紀の全般的危機」といわれる試練をくぐり抜ける必要に迫られたのである。

17世紀の初頭には「新興国」であったイギリスも例外ではなく、経済的・政治的・宗教的なさまざまな「危機」と遭遇することになる。それは、②スペインの③ネーデルラント攻撃に端を発するヨーロッパ規模での経済不況であり、(ア)に起因する国際的な緊張状態でもあった。それはまた、④絶対王政による政治的・宗教的弾圧であり、王政復古期における絶対王政への傾斜やカトリック化政策でもあった。

しかし、イギリスは、⑤ピューリタン革命(1640～60年)と(イ)(1688～89年)という二つの革命をへることによって、ヨーロッパを代表する主権国家となり、⑥18世紀にはヨーロッパや新大陸の覇権をめぐりフランスと争うまでに成長した。

(川北稔編『世界各国史 11 イギリス史』山川出版社より)

問1 (ア)は、ベーメン(ボヘミア)の新教徒の反乱に端を発し、ヨーロッパ諸国が参戦した国際的宗教戦争のことである。あてはまるもっとも適切な語句を答えなさい。

問2 (イ)にあてはまるもっとも適切な語句を答えなさい。

問3 下線部①について述べた文としてもっとも適切なものを(a)～(d)から一つ選び、記号で答えなさい。

- (a) フランスの思想家ルソーが『社会契約論』を著した。
- (b) スペイン人のピサロがインカ帝国を征服した。
- (c) アメリカでは、トマス＝ジェファソンらが起草した独立宣言が発表された。
- (d) イギリスが、中国の茶をイギリスに、イギリスの綿製品をインドに、インドのアヘンを中国に運ぶ三角貿易を始めた。

問4 下線部②について述べた文として**適当でないもの**を(a)～(d)から一つ選び、記号で答えなさい。

- (a) 1479年、カスティリヤ王女イサベルとアラゴン王子フェルナンドの結婚により両国が統合され、スペイン(イスパニア)王国が成立した。
- (b) マゼランは1519年にスペインを出発し、太平洋を横切って1521年にフィリピンに到着した。
- (c) 1557年、スペインは居住権を得たマカオを拠点として対中国貿易を繰り広げた。
- (d) 1571年、スペインはレパントの海戦でオスマン帝国の海軍を破った。

問5 下線部③について述べた文として**適当でないもの**を(a)～(d)から一つ選び、記号で答えなさい。

- (a) 中継貿易で栄えた北部7州には、カトリック教徒が多かった。
- (b) スペイン王フェリペ2世の支配下にあったが、16世紀半ばに反乱がおこった。
- (c) 16世紀後半、北部7州はユトレヒト同盟を結成し、ネーデルラント連邦共和国(オランダ)の独立を宣言した。
- (d) 17世紀前半、アムステルダムは世界の貿易と金融の中心となった。

問6 ヨーロッパの歴史において、下線部④の政治体制をとった国王としてもっとも適当な人物を(a)～(d)から一つ選び、記号で答えなさい。

- (a) ルイ14世
- (b) ジョージ1世
- (c) エドワード3世
- (d) ハインリヒ4世

問7 下線部⑤に関連して、次の(1)～(2)の問いに答えなさい。

(1) この革命について述べた文として**適当でないもの**を(a)～(d)から一つ選び、記号で答えなさい。

- (a) スチュアート家の王たちは、王権神授説をとらえた。
- (b) 1628年、議会は権利の請願を提出したが、チャールズ1世は専制政治を続けた。
- (c) ルター派の清教徒たちは議회를支持し、王党派と争った。
- (d) 1649年、チャールズ1世は処刑された。

(2) この革命で中心的役割を果たし、後に護国卿となって軍事的独裁体制をしいた人物の名前を答えなさい。

問8 下線部⑥について述べた文としてもっとも適当なものを(a)～(d)から一つ選び、記号で答えなさい。

- (a) フランスではユダヤ系軍人ドレフェスがスパイ容疑で逮捕された。
- (b) アメリカでは茶法に対する住民の怒りから、ボストン茶会事件がおこった。
- (c) ドイツではヴィルヘルム1世が皇帝に即位し、ドイツ帝国が成立した。
- (d) イギリスでは工場法が制定され、労働条件が改善されていった。

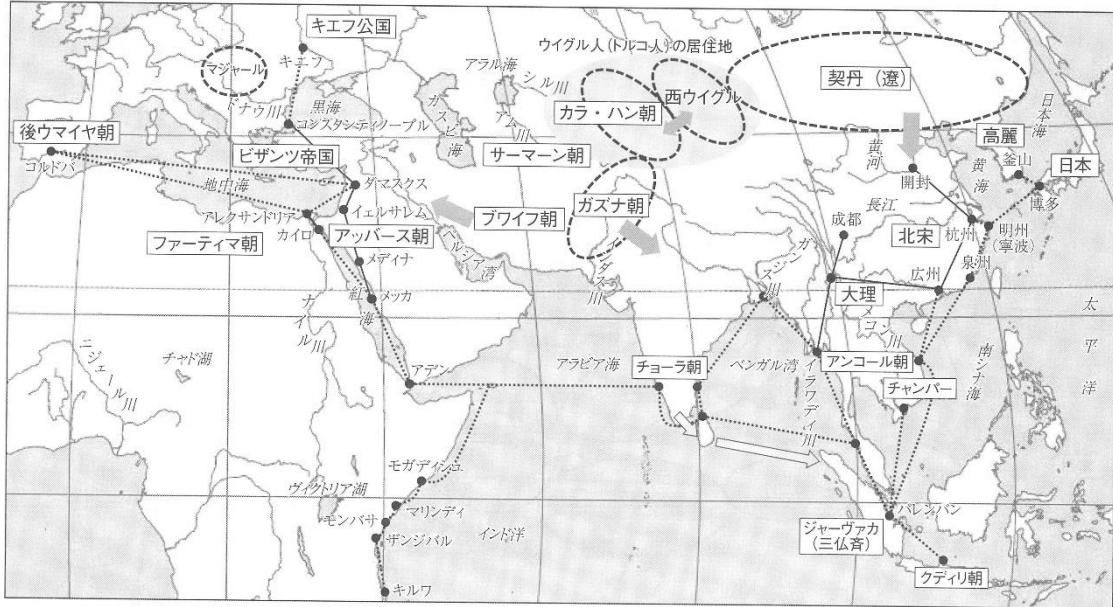
第2問 次の各文章の下線部について、二カ所とも誤りであればA、どちらか一カ所のみが誤りであればB、二カ所とも正しければCと解答欄に記入しなさい。

- 1 1948年李承晩を第一代大統領とする大韓民国が朝鮮半島南部に成立し、一方北部には金日成を初代首相とする朝鮮民主主義人民共和国が成立した。1950年6月に朝鮮戦争が勃発し、朝鮮半島を38度線で南北に分断するかたちで戦争は膠着状態に陥り、1953年7月にようやく講和条約が結ばれた。
- 2 孫文は、1894年日清戦争のさなかハワイで革命団体興中会を結成し、清朝打倒をめざし蜂起したが失敗し、日本へ亡命した。1905年には日本で中国革命の基本理念たる三民主義を発表し、革命諸勢力を結集させて中国同盟会を組織した。
- 3 北インドのコーサラ国やマガダ国など十六国の都市国家群は、前5世紀前半マガダ国が一大勢力となりガンジス川流域を統一した。このマガダ国のチャンドラグプタが前4世紀前半王位につき、パータリプトラを都として建てたマウリヤ朝は、インダス川流域をあわせた両大河にまたがる統一国家となり、第3代のカニシカ王治世時には最大領土を築き最盛期を迎えた。
- 4 17世紀シベリア征服がほぼ完成すると、ロシアは南進してアムール川流域に迫り清朝と対立したが、両国は1689年にネルチンスク条約、1727年にキャフタ条約を結んで国境を画定した。その後ロシアはさらにカムチャツカから千島、日本へと進み、江戸幕府に北辺問題を引き起こした。
- 5 始皇帝の死後、「蘇湖熟すれば天下足る」の言葉で知られる陳勝・呉広の乱が起こり、各地でこれに呼応して群雄が決起し反乱が勃発した。そうした人物のなかに楚出身の項羽、のちに漢帝国をうち立て高祖となる劉備などがいた。こうして秦はわずか15年で滅亡した。
- 6 1857年にはじまるインド大反乱はインド人の広い階層をまきこんだ。イギリス側はこれを鎮圧したが、よりいっそう強力な支配体制の確立を迫られ、1858年のインド統治改善法でインドを支配していた東インド会社を解散させ、インドをイギリス政府の直接の支配下においた。よってムガル帝国は滅亡し、1877年にはインド帝国が成立した。

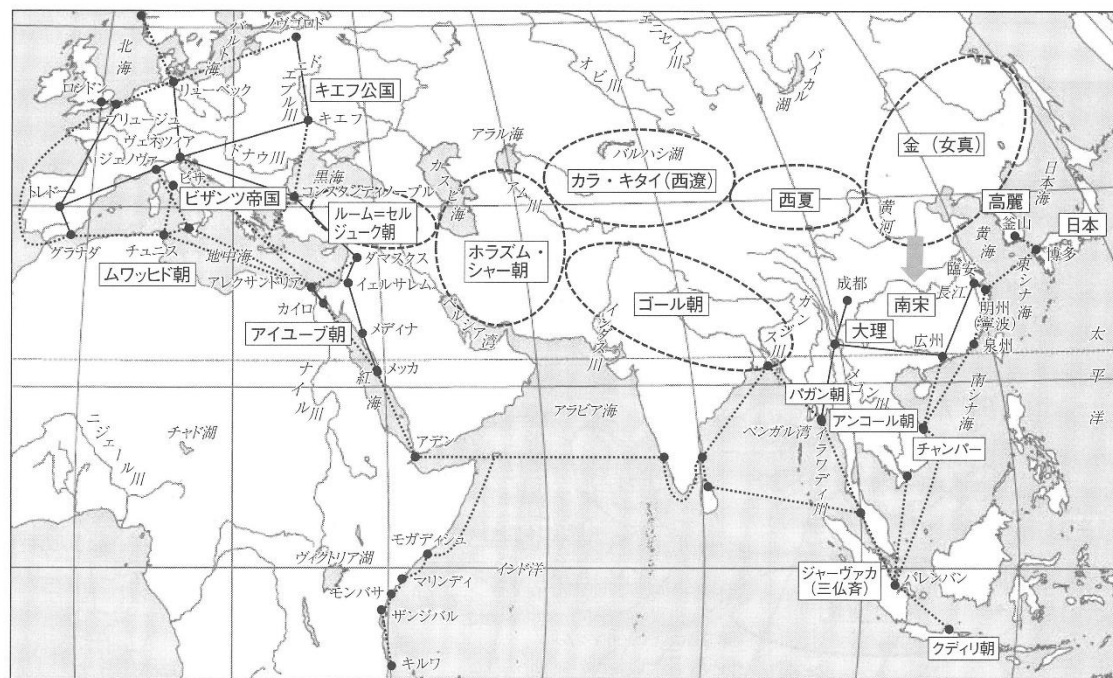
- 7 前7世紀アッシリア崩壊後、古代オリエントを再び統一したのはササン朝ペルシアであった。前 550 年にキュロス2世がイラン高原にあったメディアを滅ぼして独立国を樹立し、小アジアのリディア、新バビロニアを倒して領土を拡大、つぎにその子カンビュセス2世がエジプトを征服してオリエントの統一を果たした。
- 8 建文帝時代に靖難の役を起こして即位した正統帝は、内政では宦官を重用し、新たに内閣大学士を設置して皇帝の顧問とし、その一方で積極的な対外政策をおこない、北方では5回におよぶチベット遠征や、鄭和に南海遠征を命じるなど明の威勢を誇示しようとした。
- 9 蒋介石は1925年の五・三〇事件をきっかけとし、左派や共産党勢力の伸張を警戒、密かに浙江財閥などの金融資本に接近し、1927年上海クーデタを起こして以降反共的姿勢を強め、北京に国民政府を樹立した。
- 10 中国共産党と中国国民党との関係は内戦状態をへて、対日戦争において、1936年西安事件、1937年の盧溝橋事件を契機に第2次国共合作により抗日民族統一戦線が成立した。大戦末期から統一国家のあり方をめぐり対立、さまざまな仲介で一時的な危機は回避されていたが、1946年7月全面的な国共内戦に突入した。

第3問 10世紀および12世紀のネットワークを表した次の図を参考にして、下の問いに答えなさい。

10世紀のネットワーク



12世紀のネットワーク



(北村厚『教養のグローバル・ヒストリー』ミネルヴァ書房より)

問1 後ウマイヤ朝について、次の語句をすべて用いて100字程度で説明しなさい。なお、文章中で語句を使用した箇所には下線を引くこと。

《語句》 アッバース朝 カリフ

問2 アイユーブ朝について、次の語句をすべて用いて100字程度で説明しなさい。なお、文章中で語句を使用した箇所には下線を引くこと。

《語句》 サラディン 十字軍

問3 女真の王朝である金について、次の語句をすべて用いて100字程度で説明しなさい。なお、文章中で語句を使用した箇所には下線を引くこと。

《語句》 ^{ワンケンアグダ}完顔阿骨打 南宋

政治経済

第1問 次の文章を読んで、下の問いに答えなさい。

①フェイク(偽)ニュースや出所不明のデマがネット上で流通・拡散するのを防ぐ。その重要性をIT企業は認識し、対応を急がねばならない。

総務省の有識者会議は、偽ニュース対策を盛り込んだ最終報告をまとめた。「②政府の介入は極めて慎重であるべき」だとして、SNSなどの運営事業者に自主的な取り組みを促した。「(ア)」を守るために、政府による規制は極力避け、まずはIT企業側がチェック体制を強化すべきである。最終報告の方向性は適切だろう。

新型コロナウイルスによる肺炎を巡り、ネットでは不確かな情報が出回った。過去には偽ニュースや偽動画が米国の(イ)選などにも影響を及ぼしたと言われる。

正確で信頼できる情報は(ウ)の基盤だ。国民が判断を下すうえで欠かせない。③IT企業はネット空間の信頼性を保つ社会的責任の重さを自覚してもらいたい。

最終報告は、関係者で構成するフォーラムの創設を提唱した。IT企業だけでなく、幅広い④メディアや専門家らが最新の情報を共有する意義は小さくない。対策作りへ知恵を出し合いたい。

IT企業は通常、自社のSNSなどの情報を監視するため、AI(エ)を活用している。少なくとも、大衆の扇動や攪乱を狙った偽ニュースや明らかなデマの排除には有用と言えよう。

ただ、判断をAI任せにするのは危うい。真実性を見極めが難しいものは多く、正しい情報まで削除する可能性は十分あり得る。

IT企業は、どのような考え方に基づいてAIが判断しているのか、ニュースの表示順位をどういう基準で決めているのか、といった点を公表すべきだ。ニュースの恣意的な選別につながるぬよう、透明性の向上が不可欠である。

グーグルやフェイスブック、ツイッターのような海外企業には、技術的な問題を含め、外部からの苦情・指摘に責任を持って対応できる体制の整備も求められる。

最終報告は、情報を読み解く力「(オ)」の重要性にも言及した。SNS上などに流れる情報は玉石混交だ。利用者は、真偽不明の情報が多く含まれることを肝に銘じておく必要がある。

⑤ネット情報をうのみにせず、出所を確認したり、信頼に足る資料まで遡って調べたりする。こうした基本動作を習慣づけたい。

(「(社説)偽ニュース拡散 IT企業は自ら対策に動け」読売新聞電子版 2020年2月13日付より一部抜粋)

問1 文章中の(ア)～(オ)にあてはまるもっとも適切な語句をそれぞれ(a)～(o)から一つ選び、記号で答えなさい。

- | | | | |
|----------|-----------|---------------------|-----------|
| (a) 国王 | (b) 共産主義 | (c) 基本的人権 | (d) 人工知能 |
| (e) 速読力 | (f) 表現の自由 | (g) 情報リテラシー | (h) 大統領 |
| (i) 情報処理 | (j) 速記術 | (k) 社会主義 | (l) 良心の自由 |
| (m) 首相 | (n) 民主主義 | (o) アカデミック・インテリジェンス | |

問2 下線部①に関して、次の文章中の（ A ）にあてはまるもっとも適当な語句を、**漢字2文字**で答えなさい。

フェイクニュースやデマは多様な主体によって発信され得るが、主要なマスメディアの記事で個人が不利益を被ることも少なくない。そこで、マスメディアへのアクセス権や（ A ）権を認めて、被害者による新聞への反論記事の無料掲載を求めようとするなどの動きがあるが、最高裁は未だこれを認めていない。

問3 下線部②に関して、次の文章中の（ A ）にあてはまるもっとも適当な語句を、**漢字2文字**で答えなさい。

フェイクニュースやデマへの規制に政府が介入するのは好ましくないとする視点は、戦前の国家によるメディアへの報道管制に起因するものである。この反省を踏まえ、戦後のマスメディアは社会の（ A ）と呼ばれたり、また三権に次ぐ第四の権力と呼ばれたりなど、重要な役割を担うこととなった。

問4 下線部③に関して、次の文章中の（ A ）にあてはまるもっとも適当な語句を、**カタカナ5文字**で答えなさい。

大衆が公共の問題に関してほぼ共通して持っている意見を世論と言う。IT企業やマスメディアは世論を意図的に操作しうるほど絶大な権力を持っている。特に気を付けるべきは現行政治制度の根幹である選挙であり、マスメディアによる一方的な情報によって投票行動に影響が及ぼされることを（ A ）効果と呼ぶ。

問5 下線部④に関して、次の文章中の（ A ）・（ B ）にあてはまるもっとも適当な語句を、それぞれ**漢字2文字**で答えなさい。

健全な情報社会が形成されるために、マスメディアの役割はきわめて大きい。マスメディアは国民の知る権利、表現の自由を満たす上でも重要な役割を担っている。マスメディアに（ A ）の自由と（ B ）の自由が保障されているのもこの点による。

問6 下線部⑤に関して、次の文章中の（ A ）にあてはまるもっとも適当な語句を、**漢字6文字**で答えなさい。

ネット情報の真偽を確かめること、そしてその情報への的確な判断を下すことは、政治への不断の監視を行うことでもある。今日、ポピュリズムと呼ばれる、大衆迎合的な言説によって人気を得ようとする政治が問題となっているが、ポピュリズムは主にネット記事などで人々の関心を引こうとする現象であるため注意が必要だ。他方、政治に興味を持たないことを（ A ）と呼ぶ。（ A ）もまた問題だが、政治に興味を持って、ポピュリズムのような安易な言説に惑わされないことが重要である。

第2問 次の文章（Ⅰ及びⅡ）を読んで、下の問いに答えなさい。

Ⅰ 1946年末の石炭・鉄鋼を中心にした（**A**）の採用で、やや物資生産が安定したものの、インフレは依然進行していた。そこで「竹馬の上に乗った経済」から脱するために（**ア**）が採用された（1949年）。その結果、インフレは収束に向かったものの、生産の縮小と失業の増加がみられた（中略）。それが（**イ**）による特需の発生で、再び活況を呈するようになった。アメリカの経済援助は額は小さいながらタイミングがよく、輸入原料の手当や見返資金として復興資金に使われ、生産を軌道に乗せた。1953年の①スターリン死去と（**イ**）の休戦で景気後退という反動があったが、資本蓄積をふやしてきた日本経済は、終戦後の10年間、平均して8.5%と予想以上の高い経済成長を記録した。1955年には生産水準もおおむね戦前平常時の水準に戻り、55年をもって②「もはや「戦後」ではない」と『経済白書』は宣言した。

（宮崎勇・本庄真・田谷禎三『日本経済図説（第五版）』岩波新書、2021年より一部抜粋）

Ⅱ 2012年末、第2次安倍内閣が発足し、（**B**）と呼ばれる経済政策がとられることになった。当初、それは3本の矢からなり、第1の矢が大胆な③金融政策、第2の矢が機動的な財政政策、第3の矢が民間投資を喚起する成長戦略とされた。

2013年3月に任命された日銀の（**C**）新総裁は就任直後から大胆な「量的・質的金融緩和」政策を採用した。それは2%のインフレ率目標を2年程度で実現するため、長期国債を金融機関から大量に買うことで④マネーの量を増やし、人々のデフレ・マインドを払拭することを目指した。

（宮崎勇・本庄真・田谷禎三『日本経済図説（第五版）』岩波新書、2021年より一部抜粋）

問1 （**A**）にあてはまる語句として適当なものを、**漢字6文字**で答えなさい。

問2 （**ア**）と（**イ**）にあてはまる語句として適当な組み合わせを、（a）～（d）から一つ選び、記号で答えなさい。

- | | |
|--------------|----------|
| （a）ア：シャープ勧告 | イ：ベトナム戦争 |
| （b）ア：ドッジ・ライン | イ：ベトナム戦争 |
| （c）ア：シャープ勧告 | イ：朝鮮戦争 |
| （d）ア：ドッジ・ライン | イ：朝鮮戦争 |

問3 下線部①に関して、1985年にソビエト連邦共産党書記長に就任し、ペレストロイカやグラスノスチといった政治・社会体制の改革を推進、1989年にはアメリカのブッシュ大統領とマルタ会談を開き、冷戦の終結を宣言した人物を答えなさい。

問4 下線部②に関して、高度経済成長期（1955年～1973年頃）に起こった出来事を年代順に並べたものとして適当な組み合わせを（a）～（d）から一つ選び、記号で答えなさい。

- （a）神武景気 → 国民所得倍増計画 → 第一次石油危機 → ニクソン・ショック
- （b）国民所得倍増計画 → 神武景気 → 第一次石油危機 → ニクソン・ショック
- （c）神武景気 → 国民所得倍増計画 → ニクソン・ショック → 第一次石油危機
- （d）国民所得倍増計画 → 神武景気 → ニクソン・ショック → 第一次石油危機

問5 （B）にあてはまる語句として適当なものを、**カタカナ6文字**で答えなさい。

問6 下線部③に関して、日本銀行が1990年代後半以降取り組むようになった、非伝統的金融政策に関する説明として**適当でないもの**を（a）～（d）から一つ選び、記号で答えなさい。

- （a）政策金利を0%に近づける「ゼロ金利政策」
- （b）金融機関に資金を貸し出す際の金利にあたる「公定歩合」の操作
- （c）政策金利など金融政策を変更する際の条件や判断基準について、声明などを通じてあらかじめ公表することで市場を誘導し、政策効果を高めることを目的とした「フォワード・ガイダンス」
- （d）一部の短期金利をマイナスにする「マイナス金利政策」

問7 （C）にあてはまる人名として適当なものを（a）～（d）から一つ選び、記号で答えなさい。

- （a）黒田東彦
- （b）武藤敏郎
- （c）竹中平蔵
- （d）麻生太郎

問8 下線部④に関して、貨幣・通貨の流通に関する説明として適当なものを（a）～（d）から一つ選び、記号で答えなさい。

- （a）マネーストックとは中央銀行が供給する通貨量のことを意味する。
- （b）日本では管理通貨制度に基づき、金との交換を保証しない不換紙幣を発行している。
- （c）市中に流通している現金通貨には、日本銀行が発行する硬貨と、政府が発行する紙幣がある。
- （d）2024年上期からの流通開始が予定されている新一万円札の肖像画には、高橋是清が採用される。

第3問 次の文章を読んで、下の問いに答えなさい。

日本は資源やエネルギーの多くを海外に依存している状態が続いている。1970年代には2回の①石油危機により、日本経済は大きな打撃を受けた。世界的にも化石燃料にのみたよるシステムの脱却がはかられており、②1970年代と比べるとその消費量は大きく減少している。そして、化石燃料に代わるエネルギーとして、原子力発電も大きく注目された。地球温暖化対策という意味からも原子力発電が推進されたが、さまざまな事故の影響もあり、ヨーロッパの国の中では脱原発にかじを切っているところも出始めている。そのような中、代替エネルギーとして、水素を利用した燃料、メタンハイドレートといった資源、あるいは③自然エネルギーと呼ばれるものが注目され始めている。

問1 下線部①の中で第1次石油危機について、次の語句をすべて用いて100字程度で説明しなさい。なお、文章中で語句を使用した箇所には下線を引くこと。

《語句》 第4次中東戦争 石油原産国 狂乱物価

問2 下線部②について、その理由を次の語句をすべて用いて100字程度で説明しなさい。なお、文章中で語句を使用した箇所には下線を引くこと。

《語句》 産業 省エネルギー 代替エネルギー

問3 下線部③の「自然エネルギー」について、具体例を挙げながらその問題点を次の語句をすべて用いて100字程度で説明しなさい。なお、文章中で語句を使用した箇所には下線を引くこと。

《語句》 太陽光 環境汚染 コスト

現代社会

第1問 次の文章を読んで、下の問いに答えなさい。

①フェイク(偽)ニュースや出所不明のデマがネット上で流通・拡散するのを防ぐ。その重要性をIT企業は認識し、対応を急がねばならない。

総務省の有識者会議は、偽ニュース対策を盛り込んだ最終報告をまとめた。「②政府の介入は極めて慎重であるべき」だとして、SNSなどの運営事業者に自主的な取り組みを促した。「(ア)」を守るために、政府による規制は極力避け、まずはIT企業側がチェック体制を強化すべきである。最終報告の方向性は適切だろう。

新型コロナウイルスによる肺炎を巡り、ネットでは不確かな情報が出回った。過去には偽ニュースや偽動画が米国の(イ)選などにも影響を及ぼしたと言われる。

正確で信頼できる情報は(ウ)の基盤だ。国民が判断を下すうえで欠かせない。③IT企業はネット空間の信頼性を保つ社会的責任の重さを自覚してもらいたい。

最終報告は、関係者で構成するフォーラムの創設を提唱した。IT企業だけでなく、幅広い④メディアや専門家らが最新の情報を共有する意義は小さくない。対策作りへ知恵を出し合いたい。

IT企業は通常、自社のSNSなどの情報を監視するため、AI(エ)を活用している。少なくとも、大衆の扇動や攪乱を狙った偽ニュースや明らかなデマの排除には有用と言えよう。

ただ、判断をAI任せにするのは危うい。真実性を見極めが難しいものは多く、正しい情報まで削除する可能性は十分あり得る。

IT企業は、どのような考え方に基づいてAIが判断しているのか、ニュースの表示順位をどういう基準で決めているのか、といった点を公表すべきだ。ニュースの恣意的な選別につながるぬよう、透明性の向上が不可欠である。

グーグルやフェイスブック、ツイッターのような海外企業には、技術的な問題を含め、外部からの苦情・指摘に責任を持って対応できる体制の整備も求められる。

最終報告は、情報を読み解く力「(オ)」の重要性にも言及した。SNS上などに流れる情報は玉石混交だ。利用者は、真偽不明の情報が多く含まれることを肝に銘じておく必要がある。

⑤ネット情報をうのみにせず、出所を確認したり、信頼に足る資料まで遡って調べたりする。こうした基本動作を習慣づけたい。

(「(社説)偽ニュース拡散 IT企業は自ら対策に動け」読売新聞電子版 2020年2月13日付より一部抜粋)

問1 文章中の(ア)～(オ)にあてはまるもっとも適切な語句をそれぞれ(a)～(o)から一つ選び、記号で答えなさい。

- | | | | |
|----------|-----------|---------------------|-----------|
| (a) 国王 | (b) 共産主義 | (c) 基本的人権 | (d) 人工知能 |
| (e) 速読力 | (f) 表現の自由 | (g) 情報リテラシー | (h) 大統領 |
| (i) 情報処理 | (j) 速記術 | (k) 社会主義 | (l) 良心の自由 |
| (m) 首相 | (n) 民主主義 | (o) アカデミック・インテリジェンス | |

問2 下線部①に関して、次の文章中の（ A ）にあてはまるもっとも適当な語句を、**漢字2文字**で答えなさい。

フェイクニュースやデマは多様な主体によって発信され得るが、主要なマスメディアの記事で個人が不利益を被ることも少なくない。そこで、マスメディアへのアクセス権や（ A ）権を認めて、被害者による新聞への反論記事の無料掲載を求めようとするなどの動きがあるが、最高裁は未だこれを認めていない。

問3 下線部②に関して、次の文章中の（ A ）にあてはまるもっとも適当な語句を、**漢字2文字**で答えなさい。

フェイクニュースやデマへの規制に政府が介入するのは好ましくないとする視点は、戦前の国家によるメディアへの報道管制に起因するものである。この反省を踏まえ、戦後のマスメディアは社会の（ A ）と呼ばれたり、また三権に次ぐ第四の権力と呼ばれたりなど、重要な役割を担うこととなった。

問4 下線部③に関して、次の文章中の（ A ）にあてはまるもっとも適当な語句を、**カタカナ5文字**で答えなさい。

大衆が公共の問題に関してほぼ共通して持っている意見を世論と言う。IT企業やマスメディアは世論を意図的に操作しうるほど絶大な権力を持っている。特に気を付けるべきは現行政治制度の根幹である選挙であり、マスメディアによる一方的な情報によって投票行動に影響が及ぼされることを（ A ）効果と呼ぶ。

問5 下線部④に関して、次の文章中の（ A ）・（ B ）にあてはまるもっとも適当な語句を、それぞれ**漢字2文字**で答えなさい。

健全な情報社会が形成されるために、マスメディアの役割はきわめて大きい。マスメディアは国民の知る権利、表現の自由を満たす上でも重要な役割を担っている。マスメディアに（ A ）の自由と（ B ）の自由が保障されているのもこの点による。

問6 下線部⑤に関して、次の文章中の（ A ）にあてはまるもっとも適当な語句を、**漢字6文字**で答えなさい。

ネット情報の真偽を確かめること、そしてその情報への的確な判断を下すことは、政治への不断の監視を行うことでもある。今日、ポピュリズムと呼ばれる、大衆迎合的な言説によって人気を得ようとする政治が問題となっているが、ポピュリズムは主にネット記事などで人々の関心を引こうとする現象であるため注意が必要だ。他方、政治に興味を持たないことを（ A ）と呼ぶ。（ A ）もまた問題だが、政治に興味を持って、ポピュリズムのような安易な言説に惑わされないことが重要である。

第2問 次の〇〇市役所における課長と職員との会話文を読んで、下の問いに答えなさい。

課長 先日の①市議会での一般質問対応、おつかれさま。産業廃棄物処理施設の設置は住民生活にも影響するから、市議会でも質問が集中する傾向にあるね。

職員 おつかれさまでした。今後、産業廃棄物処理施設の設置を許可するとすると、建設予定地の近隣住民との合意形成が重要な課題になりますね。産業廃棄物による異臭などの問題は、新しい人権のひとつに位置付けられている住民の（ A ）権をおびやかすことにもつながりかねないことから、行政としても慎重な判断が求められます。

課長 他所では住民との合意形成が難航し、住民の②直接請求によって住民投票が行われた結果、産業廃棄物処理施設の建設が白紙撤回された事例もあるんだよ。

職員 この場合、地方自治法第 74 条の「条例の制定又は改廃の請求」に該当することから、住民投票には市内に住む有権者のうち（ A ）分の 1 の署名が必要になりますね。

課長 私たちが担当している産業廃棄物処理施設の設置許可は、地方公共団体が行う事務のうち、（ B ）事務に該当する。これは、戸籍事務、③国政選挙、旅券交付などのように、国が地方公共団体に事務の実施方法まで指示できる点に特徴があるね。

職員 私が現在の部署に異動する前に担当していた、保健所での予防接種に関する業務はどちらになりますか。

課長 「予防接種法」に基づいて判断されることになるよ。日本脳炎、麻しん・風しん、BCG ワクチンなど定期の予防接種は自治事務、新型コロナウイルスワクチンなど臨時の予防接種は（ B ）事務に分類されるんだ。

職員 ところで〇〇市に隣接している▲▲市には保健所が設置されていないのですが、これはなぜでしょうか。

課長 それは▲▲市が法定人口（ C ）万人を超えた市町村の申請によって認められる、中核市の指定を受けていないからだよ。保健所の設置は中核市が県から移譲される権限の一つだからね。

ちなみに法定人口が 50 万人を超えると、内閣が制定する政令によって（ C ）となる要件を満たすことができる。九州地方には（ C ）が 3 つ存在しているけれど、たしか君の出身地もその 1 つだったよね。

職員 そうですね。（ D ）は九州地方で 2 番目に人口が多い都市です。関門海峡に面しており、1901 年に操業を開始した八幡製鉄所を中心に、重化学工業が発展してきた歴史を持っています。

問 1 下線部①に関して、日本の地方議会に関する説明として適当なものを次の（ a ）～（ d ）から一つ選び、記号で答えなさい。

（ a ）地方議会では、本会議から付託される議案を審査するため、条例に基づき教育委員会・選挙管理委員会を設置することが認められている。

- (b) 地方議会は地方公共団体の長に対し、議決内容の拒否権と解散権を行使することができる。
- (c) 地方議会の議員の任期は補欠選挙などによる当選を除いた場合、六年と定められている。
- (d) 地方議会の議員定数は、地方自治法により市区町村の人口規模に応じて上限が定められている。

問2 (A) にあてはまる語句として適当なものを、**漢字2文字**で答えなさい。

問3 下線部②に関して、住民による直接請求権のうち、条例の制定・改廃の請求権のことをイニシアティブと呼ぶが、地方議会の解散及び地方公共団体の長・議員・役員
の解職にかかる請求権のことを総称して何と呼ぶか。**カタカナ4文字**で答えなさい。

問4 (ア) と (イ) にあてはまる数字の組み合わせとして適当なものを次の (a) ~ (d) から一つ選び、記号で答えなさい。

- (a) ア : 30 イ : 20
- (b) ア : 50 イ : 30
- (c) ア : 30 イ : 30
- (d) ア : 50 イ : 20

問5 下線部③に関して、日本の国政選挙に関する説明として適当なものを次の (a) ~ (d) から一つ選び、記号で答えなさい。

- (a) 1994年の公職選挙法の改正により、衆議院の選挙制度として中選挙区比例代表並立制が採用された。
- (b) 参議院議員通常選挙と同時に最高裁判所裁判官の国民審査も実施される。
- (c) 衆議院と参議院で与党・野党の議席数における優位が逆転した状態で国会が開催されることを「ねじれ国会」という。
- (d) 2021年10月31日に実施された第49回衆議院議員総選挙において、菅義偉総裁率いる自由民主党は261議席を獲得。衆議院第1党の座を維持した。

問6 (B) にあてはまる語句として適当なものを次の (a) ~ (d) から一つ選び、記号で答えなさい。

- (a) 法定受託
- (b) 行政代執行
- (c) 機関委任
- (d) ワンストップ行政

問7 (C) にあてはまる語句として適当なものを、**漢字6文字**で答えなさい。

問8 (D) にあてはまる語句として適当なものを次の (a) ~ (d) から一つ選び、
記号で答えなさい。

- (a) 長崎市
- (b) 福岡市
- (c) 北九州市
- (d) 熊本市

第3問 次の文章を読んで、下の問いに答えなさい。

日本国憲法の基本原理のひとつに「基本的人権の尊重」がある。基本的人権は人間が生まれながらにして有しているとされる権利で、国家や憲法に先立つ自然権といわれる。この考え方は、ヨーロッパにおける市民革命によってなされた社会変革の中で醸成されてきたものである。そして、アメリカ独立革命の際に起草された独立宣言や、①フランス革命の際のフランス人権宣言の中でもこの基本的人権がうたわれている。

基本的人権として保障されている権利については、時代の流れにしたがって変遷がある。たとえば17～18世紀においては自由権や平等権があげられるが、19世紀以降参政権や②社会権といった考え方が生まれてくる。そして、現代社会においては、新しい人権として、プライバシーの権利、知る権利などが登場してきている。

しかし、さまざまな権利が生まれてくる中で、個人が自らの幸福を追求してきた結果として、他者の人権が侵害されてしまうケースが出てくる。日本国憲法では、第12条において、人権は③公共の福祉のために利用することが規定されている。

問1 下線部①の「フランス革命」について、次の語句をすべて用いて100字程度で説明しなさい。なお、文章中で語句を使用した箇所には下線を引くこと。

《語句》 1789年 ブルボン朝 スローガン

問2 下線部②の「社会権」について、次の語句をすべて用いて100字程度で説明しなさい。なお、文章中で語句を使用した箇所には下線を引くこと。

《語句》 資本主義 経済的弱者 国家の介入

問3 下線部③の「公共の福祉」について、次の語句をすべて用いて100字程度で説明しなさい。なお、文章中で語句を使用した箇所には下線を引くこと。

《語句》 表現の自由 プライバシー 基本的人権

解答例

2022 年度一般入試 A 日程 (英語) 解答 (2 月 1 日)

1.

(1)	(2)	(3)	(4)	(5)	(6)	(7)	(8)	(9)	(10)
1	2	2	1	3	1	4	3	2	4

2.

a	b	c	d	e	f	g	h
6	9	8	10	2	4	1	7

3.

[A]

(1)		(2)		(3)		(4)		(5)	
a	b	a	b	a	b	a	b	a	b
2	4	4	1	3	6	4	1	1	5

[B]

(1)	(2)	(3)	(4)	(5)
2	3	3	3	3

4.

注意：かならず裏面の記入上の注意を読み、模範例にならって解答を記入すること。

[A]

	a	b	c	d
(1)	no	more	than	ten
(2)	such	a	good	that
(3)	had	would	have	ridden
(4)	Not	all	of	the
(5)	was	spoken	to	by

[B]

	a	b	c	d
(6)	proud	of	having	won
(7)	about	kind	as	to
(8)	to	have	been	injured
(9)	it	a	rule	to
(10)	need	to	do	have

5.

(1)	(2)	(3)	(4)	(5)	(6)	(7)	(8)	(9)	(10)
T	F	F	F	D	F	T	T	T	D

2022 年度一般入試A日程 (国語) 解答 (2月1日)

第1問

- 問1 (a) 利潤 (b) 搾取 (c) 貢献
- 問2 (い) 市場原理 (ろ) 二重言語者 (は) 出版語
- 問3 表向きは正しいが真実ではないという意味
- 問4 口語俗語(話し言葉)が書き言葉となり、出版語となったこと
- 問5 ①、③
- 問6 (ア)② (イ)② (ウ)① (エ)② (オ)③ (カ)③ (キ)①
- 問7 現実には存在しないにもかかわらず、「国民国家」が形成されていく中で言葉を共有する人たちが帰属意識を持つに至った集団

第2問

- 問1 (a) 格段 (b) 先駆者 (c) 統合 (d) 餓死
- 問2 一定の時間ごとに現象が発生する性質
- 問3 ③
- 問4 ①、③
- 問5 太陽や北極星の高さ
- 問6 地球自体が回転しているために手がかりがないから
- 問7 緯度や経度を知ることによって海上の船の位置がわかり、海賊の襲撃を受ける可能性が高い沿海航路を避けることができるし、航路の最適化と必要日数の見積もりを正確にすることで、積み込み物資の不足による船員の傷病を防ぐことができるから。

2022年度一般入試A日程（地理B）解答（2月1日）

第1問

問1	A	1	B	2	C	4	D	3
問2	ア	k	イ	o	ウ	m	エ	l
	オ	a	カ	d	キ	h	ク	n
問3	A	c	B	a	C	g	D	e
	E	d						
問4	ハラール							
問5	b							
問6	(1)	d	(2)	1				

第2問

1	1
2	1
3	0
4	1
5	0
6	0
7	1
8	0
9	1
10	0

第3問

問1

発展途上国では人口爆発により深刻化する可容人口の限界の問題を克服するために、先進国の支援を受けながら、居住可能地域の拡大や食料の増産、資源の開発を進めてきたが、人口の増加には依然歯止めがかかっている。(101字)

問2

発展途上国の多くでは出生率を低下させるために、子供の人数を制限する家族計画を行ってきたが、伝統的な子宝思想が根強い国では順調に普及しておらず、教育による働きかけやNGOによる草の根の支援により、解決を図っている。(105字)

問3

少子高齢化による生産年齢人口への負担を軽減するため、女性の社会進出を前提としたワークライフバランスの見直しや育児休暇、保育サービスの充実などの子育て支援により男女ともに働きやすい環境をつくり社会保障制度の維持を図っている。(110字)

2022年度一般入試A日程（日本史B）解答（2月1日）

第1問

問1	d	
問2	c	
問3	b	
問4	北条時宗	
問5	文永の役	
問6	c	
問7	a	
問8	(東洲斎)写楽	
問9	a	d

第2問

問1	c	
問2	d	
問3	a	
問4	a	
問5	a	
問6	b	
問7	d	
問8	与謝野晶子	
問9	a	
問10	d	

第3問

問1

開発領主寿妙の子孫で土地の管理を行っていた預所職の中原高方は、国衙の干渉に対抗するため、領家である願西に荘園の保護を頼むも抗しきれず、願西はさらに皇族である高陽院内親王に本家としての後ろ盾を頼んだ。(99字)

問2

幕末、日米修好通商条約調印を急いだ井伊直弼は、尊王攘夷を唱える大名や志士から強い反発を受けた。この動きを抑えるため、徳川斉昭らを謹慎処分などにし、強い態度で臨んだのが安政の大獄である。吉田松陰らもこの時に刑死した。(107字)

問3

大日本帝国憲法では、『日本書紀』などの神話に基づき万世一系の現御神として神格化されていたが、戦後の人間宣言を経てそれが否定された。日本国憲法では日本の象徴と位置づけられたが、皇位が世襲されるという点では共通している。(108字)

2022年度一般入試A日程（世界史B）解答（2月1日）

第1問

問1	(ア) 三十年戦争	
問2	(イ) 名誉革命	
問3	b	
問4	c	
問5	a	
問6	a	
問7	(1) c	
	(2) クロムウェル	
問8	b	

第2問

1	B
2	C
3	B
4	C
5	A
6	C
7	B
8	A
9	B
10	C

第3問

問1

アッバース朝建国後、イベリア半島に逃れたウマイヤ朝の一族が建てた王朝。首都はコルドバ。君主がファーティマ朝に対抗してカリフの称号を用いたため、イスラーム世界には3人のカリフが並び立った。11世紀に内乱のため滅亡。(105字)

問2

12世紀にクルド人のサラディンがエジプトに建てた王朝。シーア派のファーティマ朝を滅ぼしてスンナ派の信仰を回復し、十字軍を破ってイェルサレムを奪回した他、軍人に徴税権を与えるイクター制を導入した。1250年、マムルーク軍のクーデターにより滅亡。(117字)

問3

12世紀初頭、契丹の支配を受けていた女真の族長完顔阿骨打が中国東北地方に建てた王朝。遼、続いて北宋を滅ぼした。南宋とは和議を結び、淮河を国境とすることが定められ、臣下の礼を受けた。1234年にモンゴルと南宋の攻撃により滅亡。(108字)

2022年度一般入試A日程（政治経済）解答（2月1日）

第1問

問1	(ア) f	(イ) h	(ウ) n	(エ) d	(オ) g
問2	反論				
問3	公器				
問4	アナウンス				
問5	(A) 報道				
	(B) 取材				
問6	政治的無関心				

第2問

問1	傾斜生産方式				
問2	d				
問3	ゴルバチョフ				
問4	c				
問5	アベノミクス				
問6	b				
問7	a				
問8	b				

第3問

問1

1971年10月の第4次中東戦争を契機に、石油原産国が原油価格を上げたために世界的に起こった経済的混乱のこと。これにより、石油関連製品の価格が高騰し、狂乱物価と呼ばれる状態に至った。(91字)

問2

産業の発展にともなって、より多くのエネルギー消費が必要となったが、石油危機等の問題を回避するため、省エネルギーが提唱されるようになった。あわせて化石燃料に代わる代替エネルギーの利用が促進されたため。(99字)

問3

環境汚染の心配をしないで済むように、太陽光、風力、潮力などの自然を利用したエネルギーの利用が促進されている。しかし、このようなエネルギーの利用には多大なコストがかかることが大きな問題となっている。(98字)

2022 年度一般入試A日程（現代社会）解答（2月1日）

第1問

問1	(ア) f	(イ) h	(ウ) n	(エ) d	(オ) g
問2	反論				
問3	公器				
問4	アナウンス				
問5	(A) 報道				
	(B) 取材				
問6	政治的無関心				

第2問

問1	d	
問2	環境	
問3	リコール	
問4	d	
問5	c	
問6	a	
問7	政令指定都市	
問8	c	

第3問

問1

ブルボン朝による絶対王政が続いていたが、財政的疲弊のしわ寄せが市民を苦しめていた。この状況に耐え切れなくなった市民による1789年から始まった一連の反発。革命時のスローガンは「自由・平等・博愛」。(98字)

問2

基本的人権のひとつで、個人が生存する権利。身体を自由を保障する自由権とともに重要な権利であるが、資本主義の発展とともに経済的弱者が生まれてしまったため、これを国家の介入により救済する等の権利。(96字)

問3

基本的人権により様々な権利が保障されているが、他者の権利との衝突を避けるための原理。例えば、表現の自由に対して誰も自由に発言することが可能であるが、これによりプライバシーを侵害させないようにする。(99字)